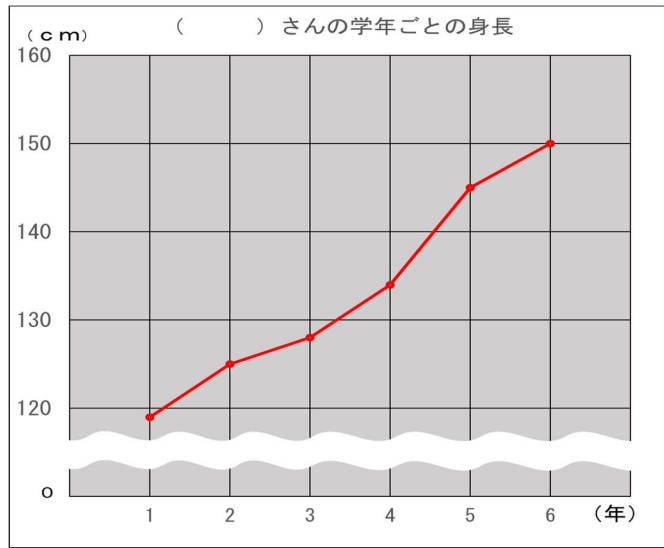


小学校第5学年用「Sイチ」

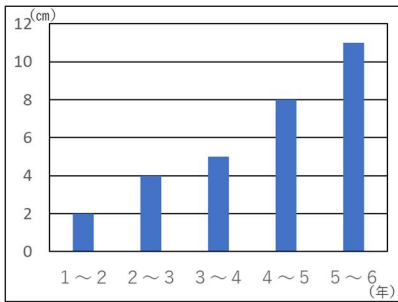
S サポート「チャレンジ問題⑨」	学年等	年 組 番
Today's Question (今日の1問)	名 前	

右の折れ線グラフは、さとしさん、たけしさん、しげるさん、かすみさん、まおさん、さくらさんのうちの一人の身長を表しています。

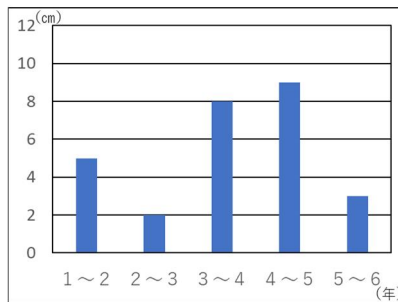
また、下の棒グラフは、6人の学年ごとの身長をのびを表しています。



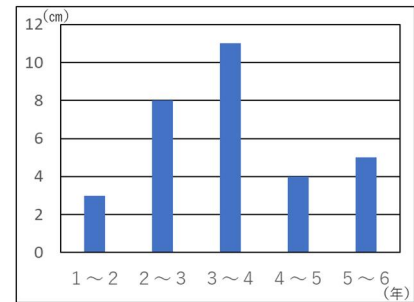
① さとしさんの身長ののび



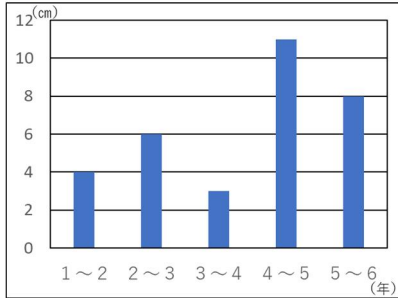
② たけしさんの身長ののび



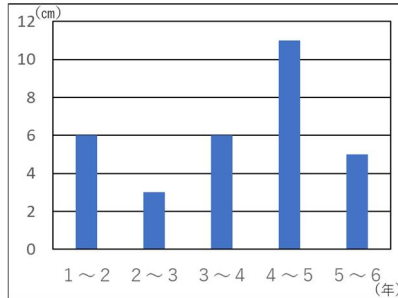
③ しげるさんの身長ののび



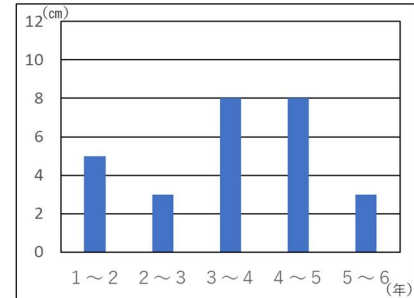
④ かすみさんの身長ののび



⑤ まおさんの身長ののび



⑥ さくらさんの身長ののび



折れ線グラフは、6人のうち、だれの身長を表したものです。次の①から⑥までの中から、正しいものを選んで番号を書きましょう。

- ① さとしさん
- ② たけしさん
- ③ しげるさん
- ④ かすみさん
- ⑤ まおさん
- ⑥ さくらさん

答え

⑤ (まおさん)

まちがっていたら、どこで、何を^{なに}まちがえたのか^ま確認^{かくにん}し、もう一回^{いっかい}、

答え^{こた}を見^みないでやってみよう。