
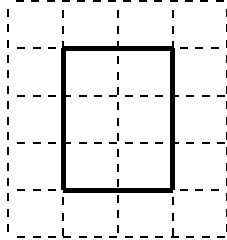


単元別問題


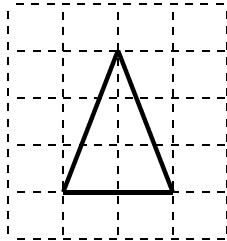
年 組 番 氏名

1 下の①、②の図形の2倍の拡大図を方眼を利用してかきなさい。

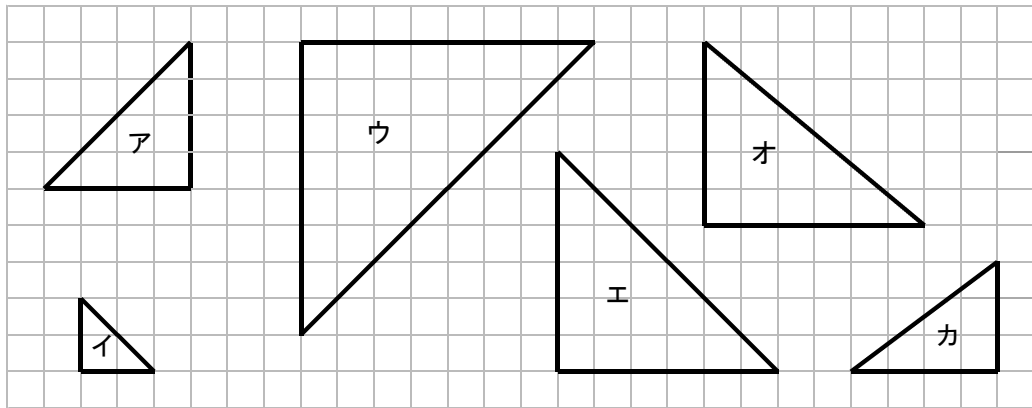
(1)



(2)



2 次の図で、アの拡大図、縮図になっているものをすべて選びましょう。



拡大図

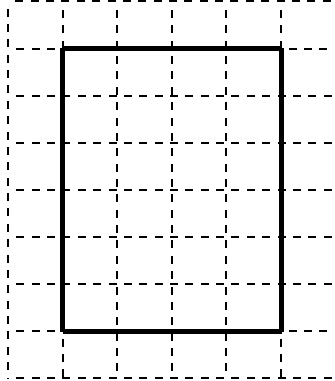
縮図

単元別問題

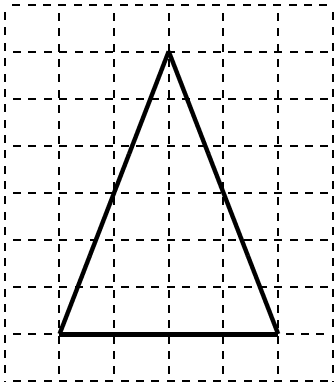
解答

1

(1)



(2)



2倍の拡大図をかくためには、各辺の長さを2倍にします。

2

拡大図      ウ、エ

縮図      イ