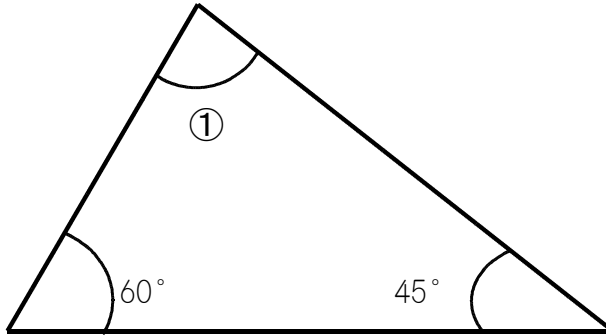
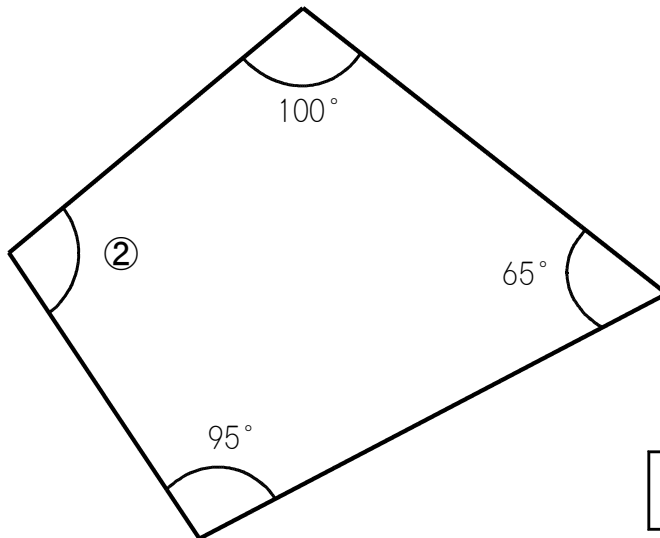


単元別問題

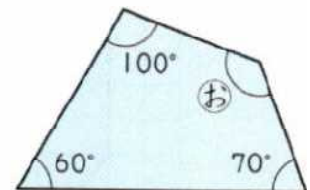
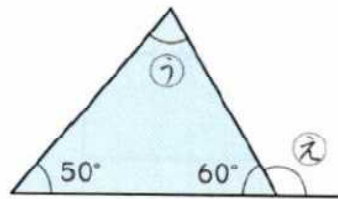
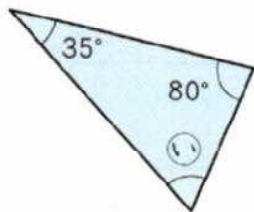
年 組 番 氏名

1 次の①と②の角度を求めましょう。






2 次の㉑～㉓の角度を求めましょう。



㉑

㉒

㉓

㉔

㉕

単元別問題

解答

1

①

75°

②

100°

三角形の3つの角の大きさは180°です。

四角形の4つの角の大きさは360°です。

2

あ

35°

い

65°

う

70°

え

120°

お

130°