

単元別問題

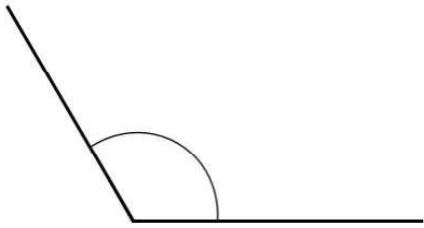
年 組 番 氏名

1

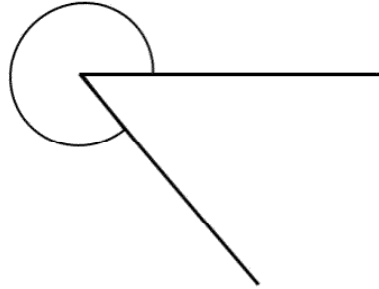
次の問題に答えましょう。(分度器を使います)

(1) 次の角度をはかりましょう。

①




②

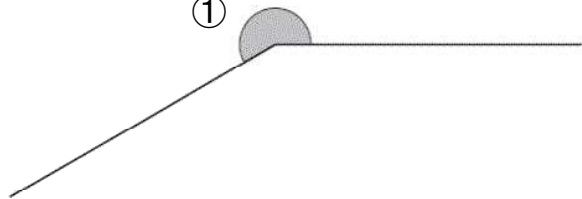



(2) ①の角の大きさをはかります。

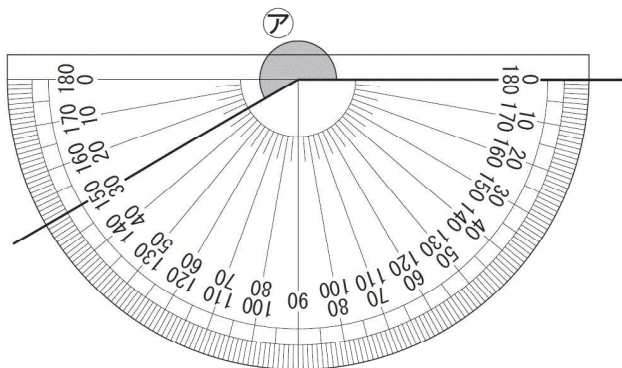
①の角の大きさについて正しいものを、下の1から4までの中から1つ選んで、その番号を書きましょう。

- 1 90°未満である。
- 2 90°以上で、180°未満である。
- 3 180°以上で、270°未満である。
- 4 270°以上で、360°未満である。

①




(3) アの角の大きさは何度ですか。答えを書きましょう。



単元別問題

解答

1

(1) ①

120°

②

310°

(2)

3

直角の2つ分よりも大きく、3つ分よりも小さいので、3となります。

(3)

210°