

単元別問題

年 組 番 氏名

1

1 a (1アール) と同じ面積めんせきになる正方形の1辺の長さを、下の 1 から 4 までの中から1つ選んで、その番号を書きましょう。

1 10 cm

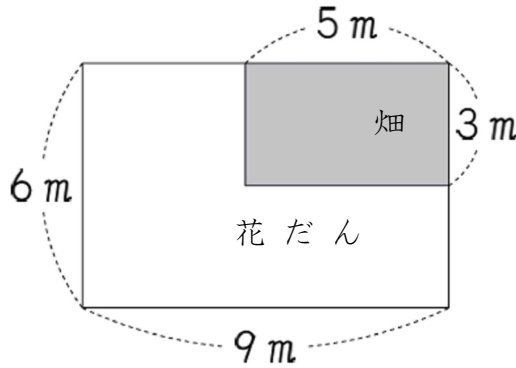
2 1 m

3 10 m

4 100 m

2

下の図は、みさきさんの学校の花だんと畑を表しています。



花だんの部分の面積めんせきは、どのような式で求められますか。
下の 1 から 4 までの中から1つ選んで、その番号を書きましょう。

1 $5 \times 3 + 3 \times 9$

2 $6 \times 9 - 3 \times 5$

3 $3 \times 6 - 5 \times 3$

4 $3 \times 9 - 3 \times 5$

3

次の面積を求めましょう。

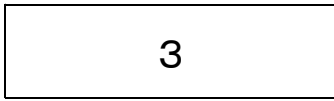
(1) たてが4 cm、横が9 cmの長方形

(2) 1辺が8 cmの正方形

単元別問題

解答

1



2



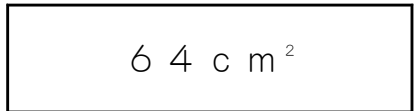
3

(1)



長方形の面積＝たて×横で求めます。
式は 4×9 となります。

(2)



正方形の面積＝一辺×一辺で求めます。
式は 8×8 となります。