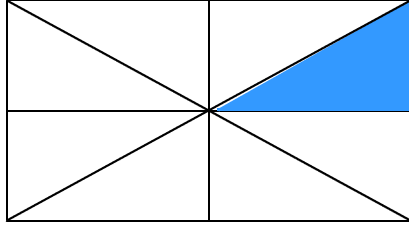


1

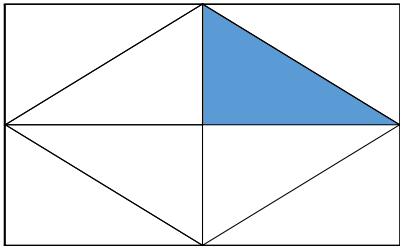
いろ
色をぬったところの大きさを、ぶんすう
分数であらわしましょう。




2

色をぬったところの大きさが $\frac{1}{4}$ になっている図はどれでしょうか。ばん
ず
番
ごうをえらびましょう。

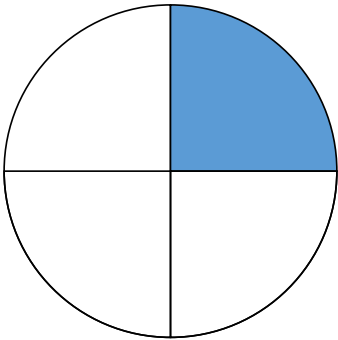
①



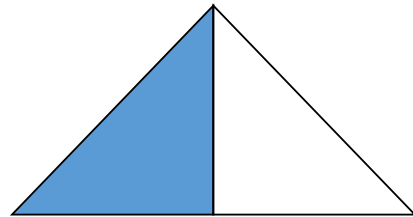
②



③



④



単元別問題

解答

1

$$\frac{1}{8}$$

2

③