

単元別問題

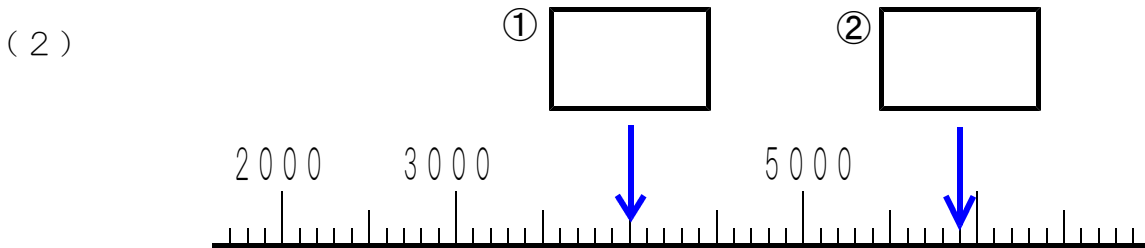
年 組 番 名 前

1 つぎの問題に答えましょう。

(1) $800 + 300$

(2) $1200 - 500$

2 にあてはまる数を書きましょう。



3 つぎの4まいのカードがあります。



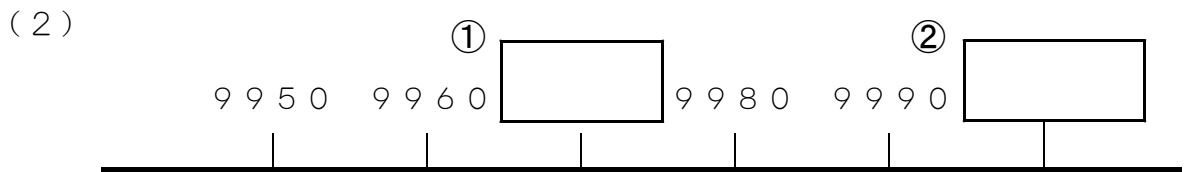
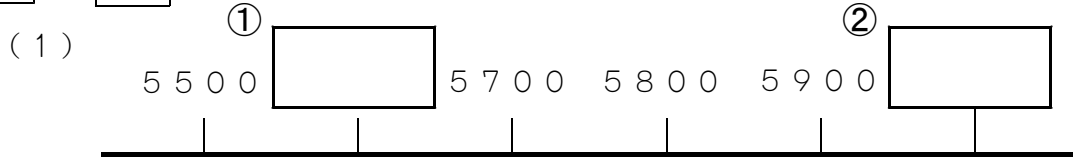
これら4まいのカードをそれぞれ1かずつつかって、4けたの数をつくれます。

つくることができる数のうち、5000にいちばんちかい数を書きましょう。

※つぎのページにも、もんだいがあります。

4 四千三十五を数字で書きましょう。

5 にあてはまる数を書きましょう。



単元別問題

解答

1 (1) 1100

(2) 700

2 (1) ① 9995

② 10000

1めもりは、1です。

(2) ① 4000

② 5900

1めもりは、100です。

3 5137

4 4035

5 (1) ① 5600

② 6000

(2) ① 9970

② 10000

1めもりは、10です。