

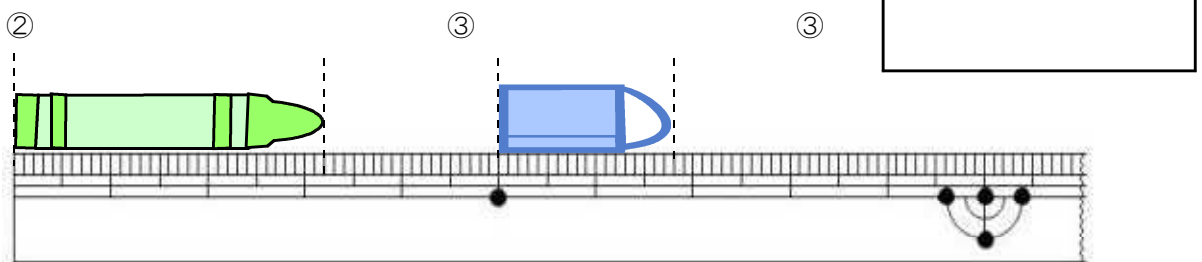
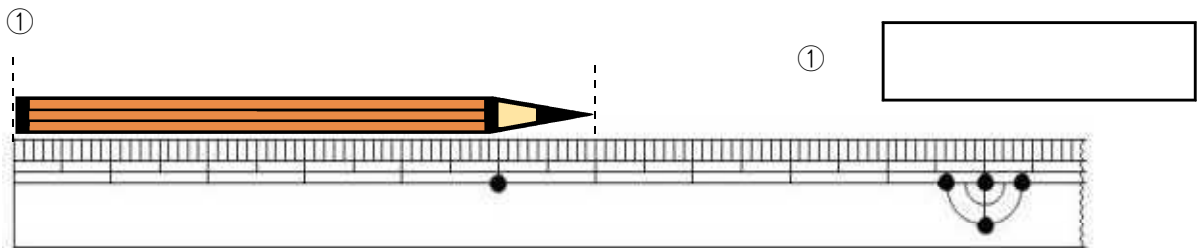
1 つぎのもんだいに^{こた}答えましょう。

(1) にあてはまる長さの^{なが}たんいを書きましょう。

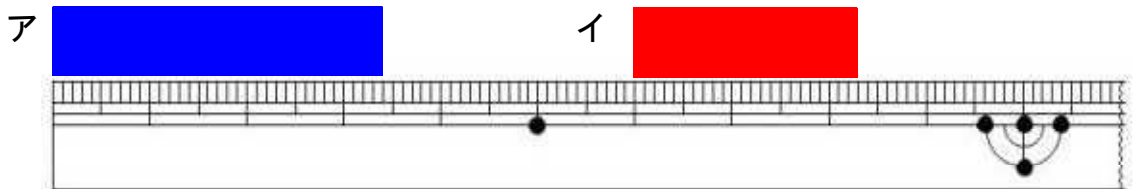
①はさみの^{なが}長さ 15

②ノートのあつき 5

(2) ①から③のもの^{なが}の長さは、どれだけでしょう。



2 ア、イのテープの長さ^{なが}は何^{なん}cm何^{なん}mmですか。



ア

イ

※つぎのページにも、もんだいがあります。

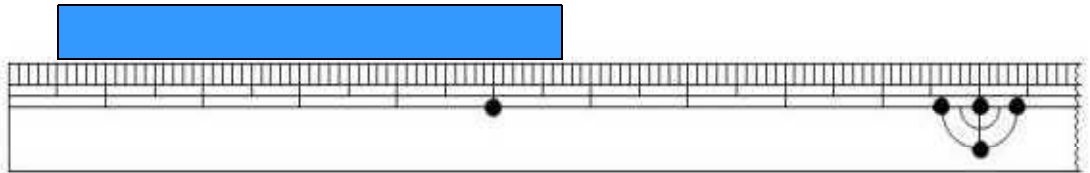
3

にあてはまる数^{かず}を書きま^かしょう。

1 c m = m m

4

つぎのテープの長さは、何 c m 何 m m でしょう。



9 問中

単元別問題

解答

1 (1) ①

②

(2) ①

②

③

2 ア

イ

3

小さい目もりは1mmです。

4