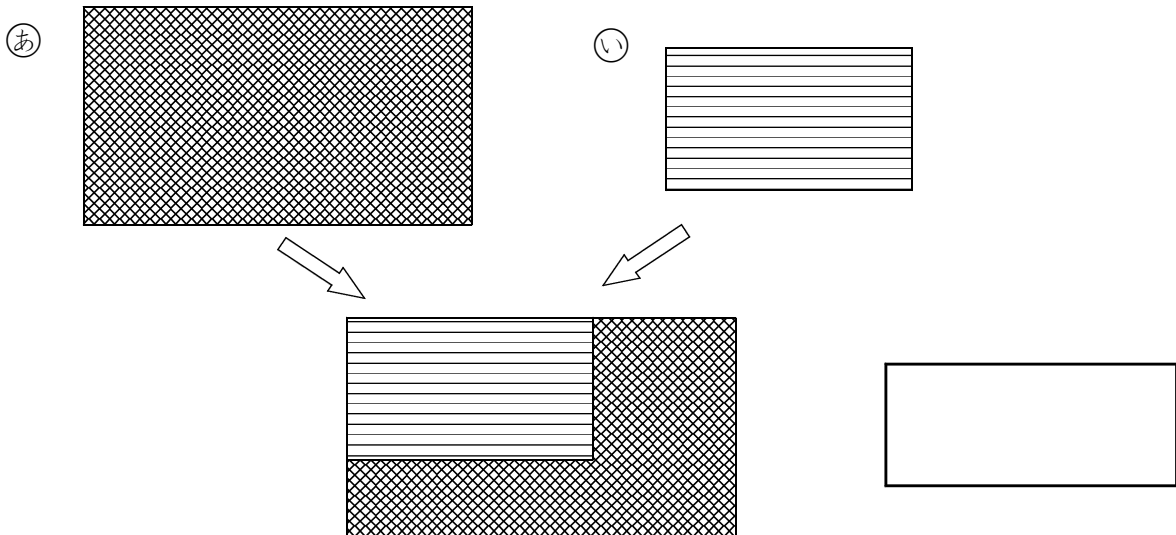


単元別問題





ねん くみ ばん なまえ

1


①と②の シートの ひろさを くらべます。  
 ①と②の シートを かさねて くらべました。  
 どちらが ひろいでしょうか。



2

けんじさんと ゆみさんが じんとりあそびを します。  
 じゃんけんを して、 かったら  を 1つ ぬります。  
 けんじさんが かったら  <sup>ます</sup> で ぬります。  
 ゆみさんが かったら  <sup>あか</sup> で ぬります。  
 <sub>あお</sub>

じんとりあそびを したら  
 みぎのように なりました。  
 あかと あおでは、どちらが  
 どれだけ ひろいでしょうか。

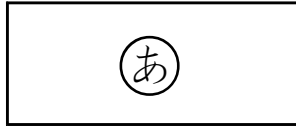


\_\_\_\_\_ のほうが \_\_\_\_\_ ますぶん ひろい。

単元別問題


こたえ

1



2

ますのかずでくらべます。



あお のほうが 1 ますぶん ひろい。