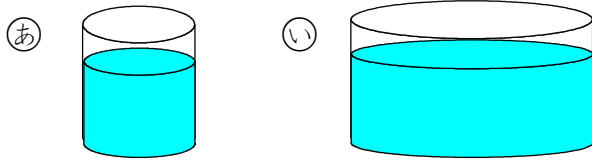


単元別問題

ねん くみ ばん なまえ

1

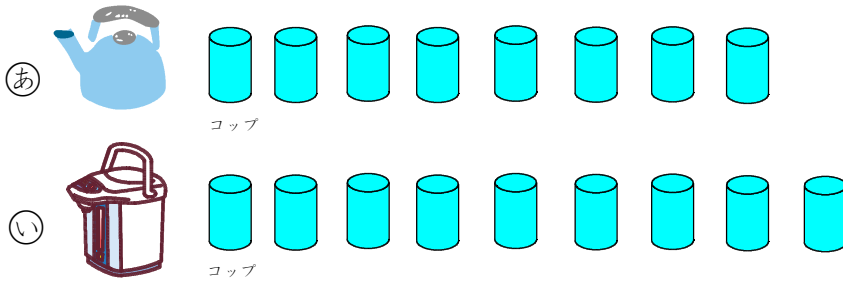
㊦と㊧のいれものに みずが はいっています。
みずは ㊦と㊧の どちらに おおく はいっているでしょうか。



Blank box for answer.

2

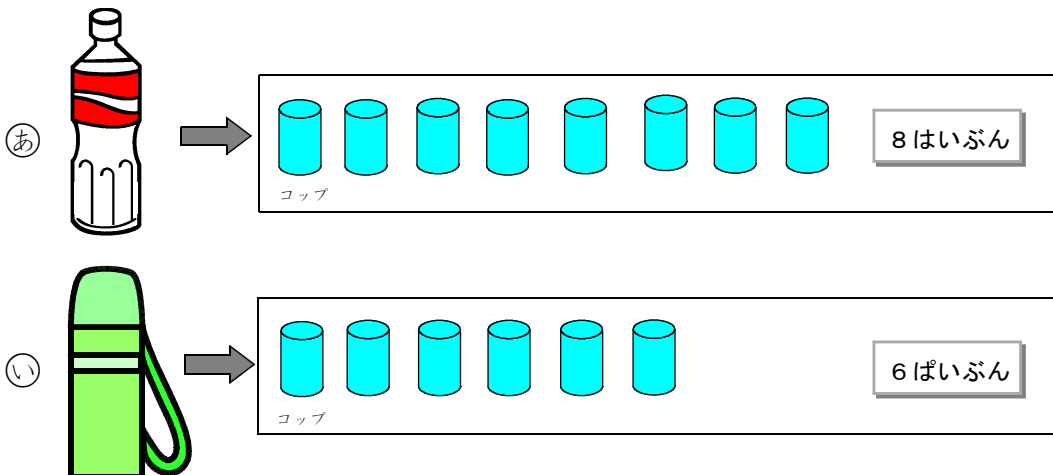
㊦と㊧のいれものは、つぎのとおり、みずが はいります。
みずは ㊦と㊧の どちらに おおく はいるでしょうか。




Blank box for answer.

3

㊦と㊧のいれものは、つぎのとおり、のみものが はいります。
㊦と㊧を くらべて、どちらが どれだけ おおく はいるか
かきましよう。

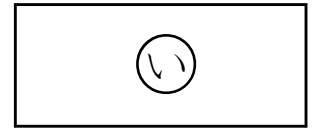
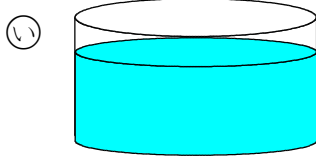



_____のほうか  _____はいぶん おおく はいる。

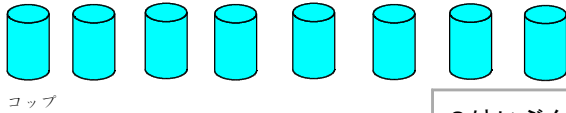
単元別問題

こたえ

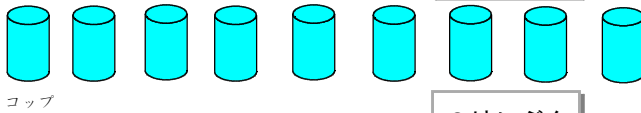

1



2

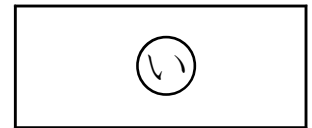


8はいぶん

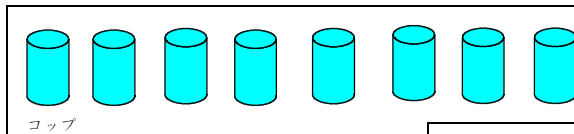


9はいぶん

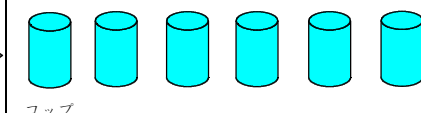
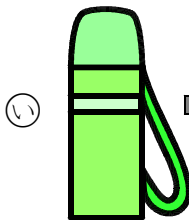
なかみをうつしたコップ
のかずでくらべます。



3




8はいぶん



6はいぶん

なかみをうつしたコップ
のかずでくらべます。

あ のほうが  2 はいぶん おおく はいる。