

単元別問題

ねん くみ ばん なまえ

1 つぎの けいさんを しましょう。

(1)  $11 - 3$

(2)  $14 - 5$

(3)  $13 - 4$

(4)  $15 - 7$

(5)  $12 - 6$

(6)  $18 - 9$

(7)  $17 - 8$


(8)  $11 - 6$

※つぎのぺえじにも、もんだいがあります。

2

つぎの もんだいに こたえましょう。

- (1) みかんが 12こ ありました。  
 はるみさんが 4こ たべました。  
 みかんは なんこ のこりましたか。  
 したの 【ず】をつかって かんがえ、  
 しきと こたえを かきましょう。



【ず】 ●●●●●●●●●●●●●●●●

しき

こたえ

- (2) おりがみが 17まい ありました。  
 そのうち 8まい つかいました。  
 おりがみは なんまい のこりましたか。  
 したの 【ず】をつかって かんがえ、しきと こたえを  
 かきましょう。

【ず】 ●●●●●●●●●●●●●●●●●●●●●●●●●●●●

しき

こたえ

- (3) まつぼっくりを ゆみさんが 16こ、けんじさんが 7こ  
 ひろいました。  
 どちらが なんこ おおく ひろいましたか。  
 したの 【ず】をつかって かんがえ、しきと こたえを  
 かきましょう。

【ず】

●●●●●●●●●●●●●●●●●●●●●●●●●●●●

○○○○○○○○

しき

こたえ

単元別問題

こたえ

1

(1)  $8$

(2)  $9$

(3)  $9$

(4)  $8$

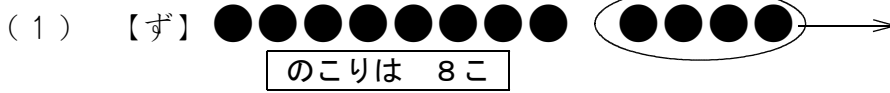
(5)  $6$

(6)  $9$

(7)  $9$

(8)  $5$

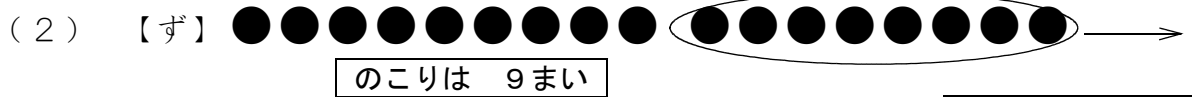
2



ずに なにも かいていなくても、しき、こたえが あってれば せいかいです。

しき  $12 - 4$

こたえ 8こ

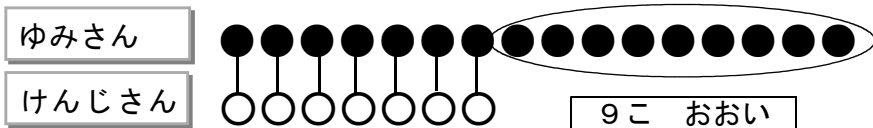


ずに なにも かいていなくても、しき、こたえが あってれば せいかいです。

しき  $17 - 8$

こたえ 9まい

(3) 【ず】



しき  $16 - 7$

ずに なにも かいていなくても、しき、こたえが あってれば せいかいです。

こたえ ゆみさん が 9 こ おおく ひろった。