

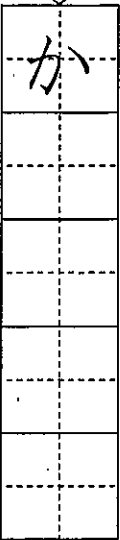

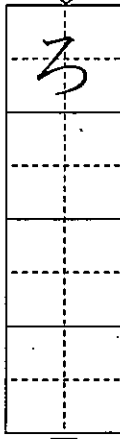

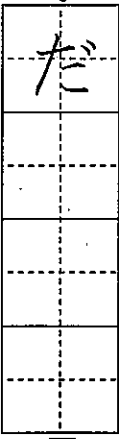

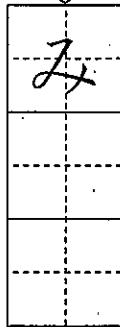



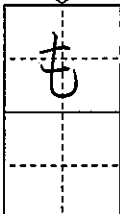
1 つぎの えをみて、 に ひらがなで ことばをかきましょう。

5  ↓  ⑤

4  ↓  ④

3  ↓  ③


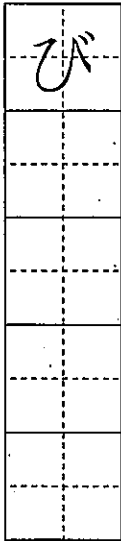
2  ↓  ②


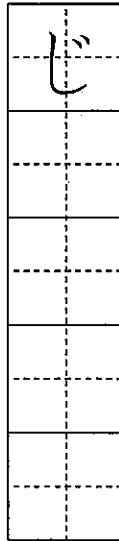
1  ↓  ①


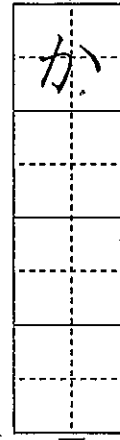
※つぎの ページにも もんだいがあります。


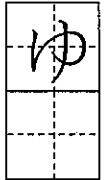
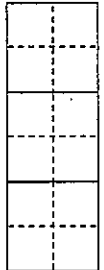
令和元年度 国語 小1  
 1学期末問題(第2回) 国語 小1  
 組 番 名  
 ①  
 ②  
 ③  
 ④  
 ⑤  
 ⑥  
 ⑦  
 ⑧  
 ⑨  
 ⑩  
 10問中


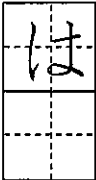
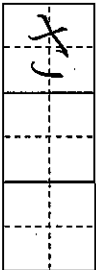
二に つぎの えをみて、ぶんをかきましょう。ぶんの おわりには「。」をかきましょう。


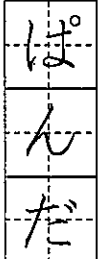
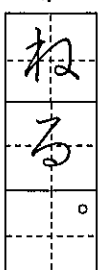
8  ↓  ⑧

7  ↓  ⑦

6  ↓  ⑥

2  ↓  が  ⑩

1  ↓  が  ⑨

おてほん  ↓  ぱんだ  がねる。 ①

■こたえ

1 もも  
 2 みかん

3 だいこん  
 4 ろけっど

5 かきごおり

6 かぼちゃ

7 じてんしゃ

8 びよういん

9 はながさく

10 ゆきがふる

とりくんでみよう!

に ひらがなを かいて ことばを かんせい させましょう。

1 おとぎさん



2 せんせ



こたえ

と い  
 1 2



本表を方へ〜解答欄の ①〜④ は、問題結果表裏の返答番号に対応しています。

1 (1)  (2)

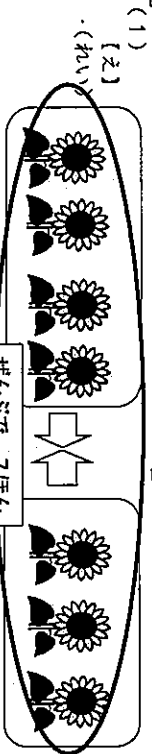
2 (1)  (2)

3 (●●●) と  
7 (●●●●●●●) をあわせると  
10 (●●●●●●●●●●) になります。

3 (1) まえから 4ひきめ   
 (2) みぎから 3ほんまで



4 (1)   
 ずになにも かいていなくても、しき、  
 こたえが あっていれば、せいはいです。



(1)  +  =   
 しき  こたえ

(2)  +  =   
 しき  こたえ

【ず】 ●●●●● ●●●●●  
 【れい】 はじめに5にん、4にんくると  
 ずになにも かいていなくても、しき、  
 こたえが あっていれば、せいはいです。

めあて がつしゆつした ひらがなや かたかなを つかって いろいろな ことばを  
ぶんを かこう。

一 つぎの えを みて、ひらがなの ことばを かきま  
しょう。

1 に と

2 ち

3 けい

4 ちやう

5 ちやう



6 ちやう

7 ちやう

8 ちやう

9 ちやう

10 ちやう

3 え

4 き

5 り



6 けい

7 ちやう

8 ちやう

9 ちやう

10 ちやう

二 つぎの えを みて、かたかなの ことばを かきま  
しょう。

1 ア ス

2 プ

3 けい

4 ちやう

5 ちやう



6 ちやう

7 ちやう

8 ちやう

9 ちやう

10 ちやう

3 ピ

4 けい

5 ちやう

6 ちやう

7 ちやう

8 ちやう

9 ちやう

10 ちやう



5 ト

6 ちやう

7 ちやう

8 ちやう

9 ちやう

10 ちやう





6 シ

7 ちやう

8 ちやう

9 ちやう

10 ちやう



※つぎの ページにも もんだいが あります。

三 ④の なかに 「へ」「を」を 入れて、ただしい  
ぶんを つくりましょう。

1 わたしは、こうえん  いきました。 ①

2 そして、みんなでおべんとう  たべました。 ②

四 つぎの えを みて、ぶんを かきましよう。うすい  
の ところは なぞりましよう。

1 ど ぼ を く わ は お ま だ ん ほ

2 い ぼ ば は に か け ま し こ た で

3 な わ ま し た は ぼ ル

4 ちやう

5 ちやう


6 ちやう

7 ちやう

8 ちやう

9 ちやう

10 ちやう



2 い ぼ ば は に か け ま し こ た で

3 な わ ま し た は ぼ ル

4 ちやう

5 ちやう


6 ちやう

7 ちやう

8 ちやう

9 ちやう

10 ちやう



3 な わ ま し た は ぼ ル

4 ちやう

5 ちやう


6 ちやう

7 ちやう

8 ちやう

9 ちやう

10 ちやう






★先の方へ一解答欄の 1～10 は、問題紙裏面の採点番号に対応しています。

1  に あてはまる かずを かきましよう。

(1) 17 —  — 16 —  — 14 —  — 13 —

(2) 6 —  —  — 10 — 12 —

2 とけいを よみましよう。



3 つぎの もんだいに こたえましよう。

(1) みかんが 3こ あります。  
りんごが 8こ あります。  
かずの ちがいは いくつですか。  
みぎの [ず] を つかって かんがえ、  
しきと こたえを かきましよう。

しき

こたえ

(2) ちゅうしゃじょうに くるまが 5だい あります。  
あとから 7だい ききました。  
せんぶで なんだいに なりましたか。  
したの [ず] を つかって かんがえ、しきと こたえを かきましよう。

[ず] ●●●●● ○○○○○○

しき

こたえ

※つぎのページにも、もんだいがあります。

4

つぎの ①から③の もんだいを よんで、しきが 8 + 5 - 3 に なるものを 1つえらんで、ばんごうを かきましよう。

①

くるみが 8こ ありました。  
5こ あげました。  
あとから 3こ もらいました。  
くるみは なんこに なったでしようか。

②


がようしが 8まい ありました。  
5まい つかいました。  
また、3まい つかいました。  
のこりは なんまいでしようか。

③

ばずに こともが 8にん のっています。  
あとから 5にん のりました。  
つぎに 3にん おりました。  
ばずに こともは なんにん のっていますか。

5

えを みて、4 + 3の しきに なる もんだいを つくりましよう。



大先生方へ解答欄の①～⑤は、問題毎に算数の説明書きに対応しています。

1 (1) ① 15 (2) ② 8 ③ 14

1ずつ へつて います。 2ずつ へつて います。

2じはん  
(2じ30ぶん)

ずに なにも かいていなくても、しき、  
 こたえが あつていれば せいはいです。

3 (1) (ず) みかん ●●● 3こ

りんご ○○○○○○○○ 8こ

しき 8 - 3 こたえ 5こ

ずに なにも かいていなくても、しき、  
 こたえが あつていれば せいはいです。

(2) (ず) ●●●●● ← ○○○○○○○○  
 はじめ5だい あとから7だい

しき 5 + 7 こたえ 12だい

4 ③ ①のしきは、8-5+3になります。  
 ②のしきは、8-5-3になります。

(れい)  
 こうえんで こどもが 4にん あそんでいます。  
 あとから 3にん やつてきました。  
 こどもは ぜんいんで なんにんに なつたでしょう。

れいの「こどもの かず」の ほかに、「せの たかいきと せの ひくいきの かず」や  
 「どんぐりの かず」「りすの かず」などでも、もんだいを つくることができます。