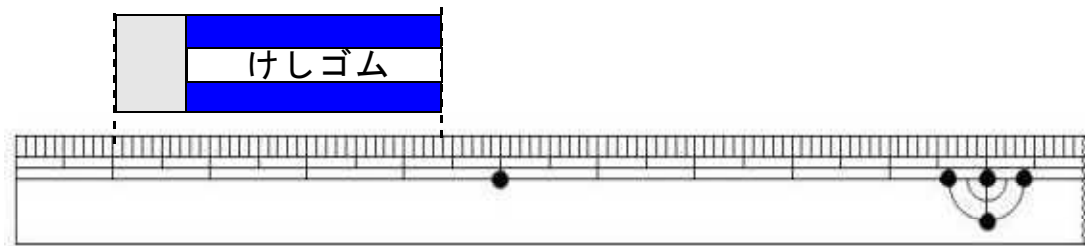


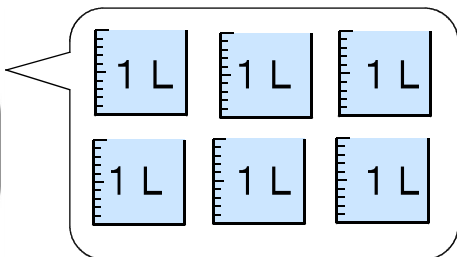
1

けしゴムの長さは、何cm何mmでしょう。



2

下の水とうに入る水のかさは、何mLでしょう。

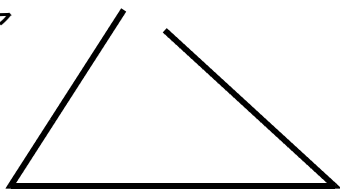


mL

3

つぎの **ア** と **イ** の形が三角形ではないわけを答えましょう。

ア



アのわけ

イ

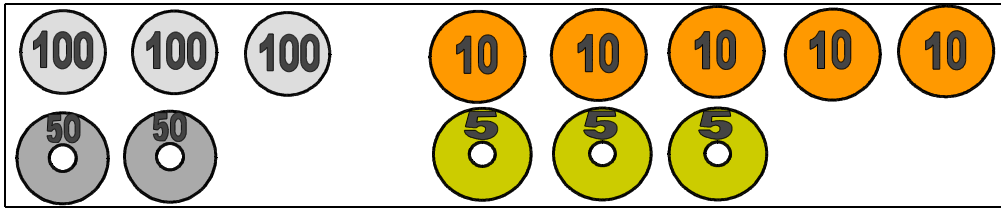


イのわけ

※次のページにも、もんだいがあります。

4

ともこさんのさいふには、下の絵のようにお金が入っています。
265円の牛にゆうを買うとき、おつりが出ないお金の出し方を2通り書きましょう。



お金の出し方

(書き方のれい)
百円玉を1まい、五十円玉を1まい、
十円玉を1まい、五円玉を1まい

5

つぎの2つの3けたの数の大きさをくらべます。

$3 \square 4$	362
---------------	-------

上の3けたの数の $3 \square 4$ の十のくらいには、まだ数字が入っていません。 $3 \square 4$ が 362 よりも大きい数になるとき、 \square には、どのような数があてはまりますか。0から9までの中で、あてはまる数をすべて書きましょう。

6

さとしさんの家からバスまで、歩いて15分かかります。バスでいからどうぶつ園まで、バスで20分かかります。午前10時まででどうぶつ園につくには、おそくとも家を何時何分までに出ればよいでしょうか。

バスは、午前9時15分、30分、45分にバスていをはっ車します。

家を出る時こく 午前 時 分まで