


5




↓

か

⑤

4

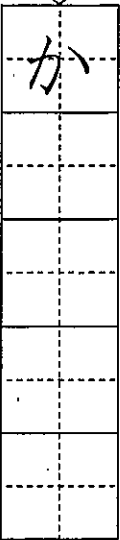


↓

ろ

④

3




↓

だ

③

2




↓

み

②

1



↓

も

①

一 つぎの えをみて、 に ひらがなで ことばをかきましょう。

※つぎの ページにも もんだいがあります。

令和元年度 国語 第一回 国語 小一


組 番

名

めあて かくしゅうした ひらがなをつかって いろいろな ことばをかこう。

10問中

2




↓

ゆ

が

⑩

1



↓


は

が

さ

⑨

おてほん



↓

ぱ

ん

だ

が

ね

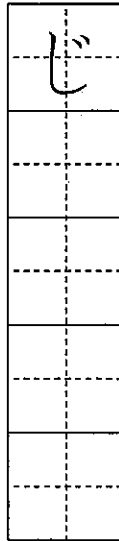
る。

⑧

二に

つぎの えをみて、ぶんをかきましょう。ぶんの おわりには「。」をかきましょう。

8




↓

び

⑥

7

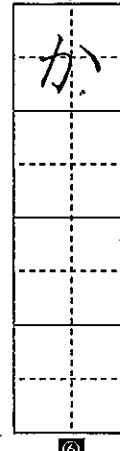


↓

じ

⑦

6



↓

か

⑥

■こたえ

1 もも
 2 みかん

3 だいこん
 4 ろけっど

5 かきごおり

6 かぼちゃ

7 じてんしゃ

8 びよういん

9 はながさく

10 ゆきがふる

とりくんでみよう!

に ひらがなを かいて ことばを かんせい させましょう。

1 おとぎさん



2 せんせ



こたえ

と い
 1 2


★先立方へ～解答欄の 1～10 は、問題結果空欄の既出番号に対応しています。

1 に あてはまる かずを かきましよう。

(1) 7 8 9 10

(2) 9 8 7 6 4 3

2 あわせて になるように に あてはまる かずを かきましよう。



3 つぎの もんだいに、こたえましよう。

(1) まえから 4ひきめを で かこみましよう。
 まえ うしろ




(2) みぎから 3ぼんまで で かこみましよう。




4 つぎの もんだいに こたえましよう。
 (1) は、あわせて なんぼんですか。
 ひまわり

したの【え】を つかって かんがえ、しきと こたえを かきましよう。



しき こたえ




(2) ゆいさんたちは、5にんで そうじを して います。
 4にん くると、せんぶで なんにんに なり ますか。
 したの【ず】を つかって かんがえ、
 しきと こたえを かきましよう。



【ず】

しき こたえ



本テストへ~解答欄の ①~④ は、問題結果表裏の返答番号に対応しています。

1 (1) (2)

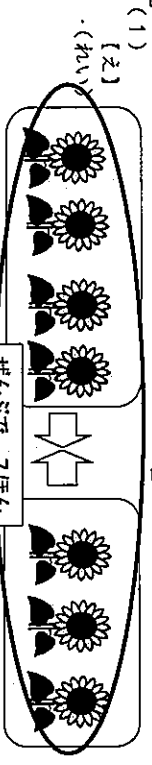
2 (1) (2)

3 (●●●) と
 7 (●●●●●●●) をあわせると
 10 (●●●●●●●●●●) になります。

3 (1) まえから 4ひきめ
 (2) みぎから 3ほんまで



4 (1)
 ずになにも かいていなくても、しき、
 こたえが あっていれば、せいはいです。



(1) + =
 しき こたえ

(2) + =
 しき こたえ

【ず】 ●●●●● ← ●●●●●
 【れい】 はじめに5にん、4にんくると
 ずになにも かいていなくても、しき、
 こたえが あっていれば、せいはいです。

めあて がつしゆつした ひらがなや かたかなを つかって いろいろな ことばを
 ぶんを かこう。

一 つぎの えを みて、ひらがなの ことばを かきま
 しょう。

1 に と

2 ち

3 ち

4 ち

5 ち



6 ち

7 ち

8 ち

9 ち

10 ち

3 え

4 き

5 り



6 り

7 り

8 り

9 り

10 り

二 つぎの えを みて、かたかなの ことばを かきま
 しょう。

1 ア ス

2 プ

3 プ

4 プ

5 プ



6 プ

7 プ

8 プ

9 プ

10 プ

3 ピ

4 卍

5 卍


6 卍

7 卍

8 卍

9 卍

10 卍



5 ト

6 ト

7 ト

8 ト

9 ト

10 ト





6 シ

7 シ

8 シ

9 シ

10 シ



※つぎの ページにも もんだいが あります。

三 ④の なかに 「へ」「を」を 入れて、ただしい
 ぶんを つくりましょう。

1 わたしは、こうえん いきました。 ①

2 そして、みんなでおべんとう たべました。 ②

四 つぎの えを みて、ぶんを かきましよう。うすい
 の ところは なぞりましよう。

1 ど ぼ を く わ は お ま だ た ん ほ

2 ど ぼ を く わ は お ま だ た ん ほ

3 ど ぼ を く わ は お ま だ た ん ほ

4 ど ぼ を く わ は お ま だ た ん ほ

5 ど ぼ を く わ は お ま だ た ん ほ


6 ど ぼ を く わ は お ま だ た ん ほ

7 ど ぼ を く わ は お ま だ た ん ほ

8 ど ぼ を く わ は お ま だ た ん ほ

9 ど ぼ を く わ は お ま だ た ん ほ

10 ど ぼ を く わ は お ま だ た ん ほ



2 い ぼ ば は に か け ま し た。 ⑩

3 い ぼ ば は に か け ま し た。 ⑩

4 い ぼ ば は に か け ま し た。 ⑩

5 い ぼ ば は に か け ま し た。 ⑩


6 い ぼ ば は に か け ま し た。 ⑩

7 い ぼ ば は に か け ま し た。 ⑩

8 い ぼ ば は に か け ま し た。 ⑩

9 い ぼ ば は に か け ま し た。 ⑩

10 い ぼ ば は に か け ま し た。 ⑩



3 な わ ま し た は、ボ ル ⑨

4 な わ ま し た は、ボ ル ⑨

5 な わ ま し た は、ボ ル ⑨


6 な わ ま し た は、ボ ル ⑨

7 な わ ま し た は、ボ ル ⑨

8 な わ ま し た は、ボ ル ⑨

9 な わ ま し た は、ボ ル ⑨

10 な わ ま し た は、ボ ル ⑨



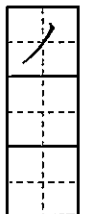
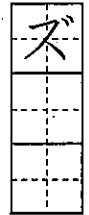
■ こたえ

- 一 1 にわとり 2 ろうか 3 つくえ
4 かきごおり
- 二 1 アイス 2 プール 3 ピアノ
4 サッカー 5 トラック 6 ショベルカー
- 三 1 わたしは、こうえん(へ)いきました。
2 そして、みんなでおべんとう(を)たべました。
- 四 1 ぼくは、おうだんほどをわたりました。
2 ぼくは、かけっこでいちばんになりました。
3 わたしは、ボールをなげました。

■ かんがえた
 ひらがなの よみかきは すべての がくしゅうで ひつように なるので
 すべての ひらがなの よみかきが できるように れんしゅう しましよ
 ぶんを かく ときには ぶんの さいに くてん()を うつ ことが
 たいせつ です。

とりくんでみよう！

○ つぎの えを みて、かたかなの ことばを かきましよう。



○ つぎの えを みて、ぶんを かきましよう。

よ		わ					
		た					
		ま					
		し					
		た					
				ほ			
				ん			



こたえ
 。しまなやをんほはしたわ
 ーノ ス


★先の方へ一解答欄の 1～10 は、問題紙裏面の採点番号に対応しています。

1 に あてはまる かずを かきましよう。

(1) 17 — — 16 — — 14 — — 13 —

(2) 6 — — — 10 — 12 — —

2 とけいを よみましよう。



3 つぎの もんだいに こたえましよう。

(1) みかんが 3こ あります。
りんごが 8こ あります。
かずの ちがいは いくつですか。
みぎの [ず] を つかって かんがえ、
しきと こたえを かきましよう。

しき

こたえ

(2) ちゅうしゃじょうに くるまが 5だい あります。
あとから 7だい ききました。
せんぶで なんだいに なりましたか。
したの [ず] を つかって かんがえ、しきと こたえを かきましよう。

[ず] ●●●●● ○○○○○○

しき

こたえ

※つぎのページにも、もんだいがあります。

4

つぎの ①から③の もんだいを よんで、しきが 8 + 5 - 3 に
なるものを 1つえらんで、ばんごうを かきましよう。

①

くるみが 8こ ありました。
5こ あげました。
あとから 3こ もらいました。
くるみは なんこに なったでしようか。

②


がようしが 8まい ありました。
5まい つかいました。
また、3まい つかいました。
のこりは なんまいでしようか。

③

ばずに こともが 8にん のっています。
あとから 5にん のりました。
つぎに 3にん おりました。
ばずに こともは なんにん のっていますか。

5

えを みて、4 + 3の しきに なる もんだいを つくりましよう。



6

