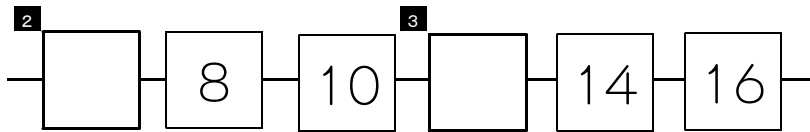


★先生方へ～解答欄の 1 ～ 11 は、問題結果登録の設問番号に対応しています。

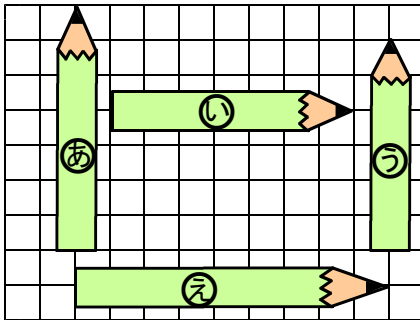
1 こたえが 大きい ほうのしきに ○ を つけましょう。

1 $12 - 4$ $16 - 9$

2 □ に あてはまる かずを かきましょう。



3 えんぴつの ながさを くらべます。つぎの もんだいに こたえましょう。



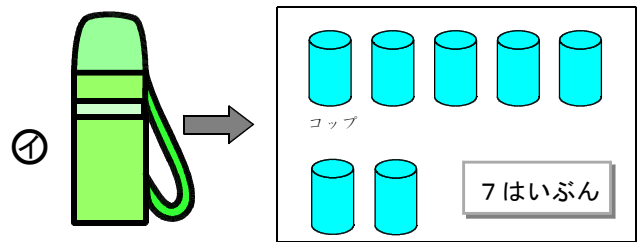
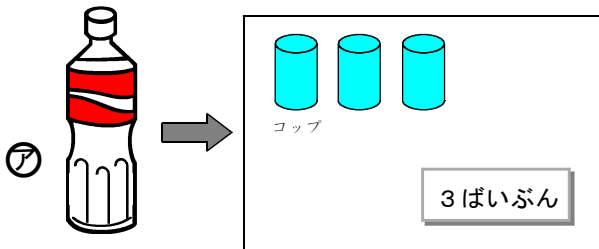
(1) いちばん ながい えんぴつを ㉞ から ㉟ までの なかから えらびましょう。

4


(2) いちばん みじかい えんぴつを ㉞ から ㉟ までの なかから えらびましょう。

5

4 ㉞ と ㉟ の いれものは、つぎの とおり、のみものが はいります。
㉞ と ㉟ を くらべて、どちらが どれだけ おおく はいるか かきましよう。



6

_____ の ほうが  _____ はいぶん おおく はいる。

つぎの ページにも、もんだいが あります。

5 つぎの もんだいに こたえましょう。

(1) けいこさんは、おりがみを 15まい もって いましたが、
5まい つかいました。

そのあと おうちの ^{ひと}人から 7まい もらいました。

いま、けいこさんは、おりがみを なんまい もって いますか。

したの【ず】を つかって かんがえ、しきと こたえを かきましょう。

【ず】 ●●●●●●●●●●●●●●●●●●

しき ⁷

こたえ ⁸ まい

(2) かだんに あおい ^{はな}花が 5^{ほん}本、しろい ^{はな}花が 14^{ほん}本 さいています。
どちらが なん^{ほん}本 おおいですか。

したの【ず】を つかって かんがえ、しきと こたえを かきましょう。


【ず】 あおい ^{はな}花 ●●●●●●

しろい ^{はな}花 ●●●●●●●●●●●●●●●●●●

しき ⁹

こたえ ¹⁰ が ^{ほん}本 おおい。

6 えを みて、4 + 3の しきに なる もんだいを つくりましょう。



¹¹

さんすう しょう くみ ばん なまえ
〔算数〕 小1 組 番号前

★先生方へ～解答欄の 1 ～11 は、問題結果登録の設問番号に対応しています。

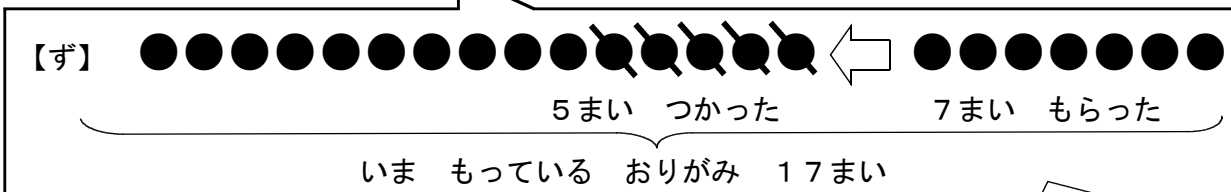
1 1 2 - 4 16 - 9

2 6 3 1 2 2ずつふえます。

3 (1) え (2) う

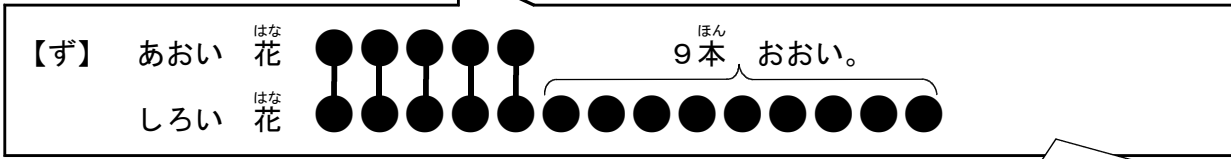
4 ①のほうがかみを うつした コップの 4 はずで くらべます。
なかみを うつした コップの はずで くらべます。
①のほうが 4 はいぶん おおく はいる。

5 (1) 7 しき 15 - 5 + 7 8 こたえ 17まい



(2) 9 しき 14 - 5 こたえ 9まい
ずに なにも かいていなくても、しき、こたえが あっていれば せいかいです。

10 こたえ しろい ^{はな} が ^{ほん} 9本 おおい。



ずに なにも かいていなくても、しき、こたえが あっていれば せいかいです。

6 11 (れい) いけに あひるが 4わ います。
あとから 3わ きました。
あひるは ぜんぶで なんわに なりましたか。

れいの 「あひるの はず」の ほかに、「じどうしゃの はず」や「せの たかい ^き 木と せの ひくい ^き 木の はず」、「花の ^{はな} はず」でも もんだいを つくることが できます。