

1 つぎの もんだいに こたえましょう。

(1) まえから 4ほんめを ○で かこみましょう。




(2) みぎから 5こまで ○で かこみましょう。

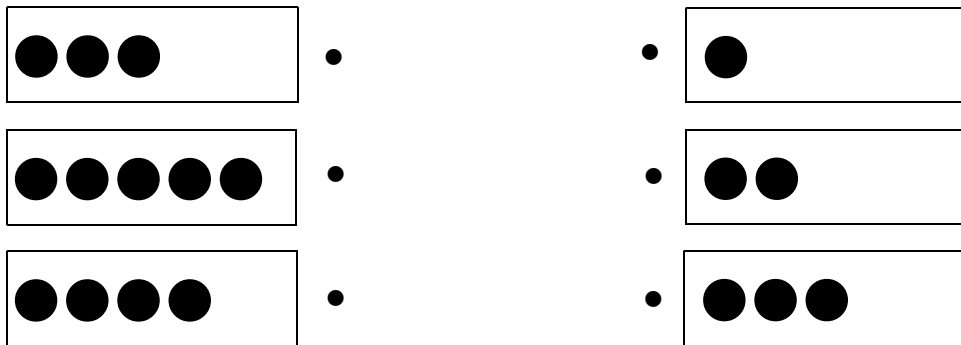


(3) えんぴつは みぎから なんばんめでしょう。

ばんめ



2 あわせて 6に なるように せんで つなぎましょう。



※つぎのページにも、もんだいがあります。


3 つぎの もんだいに こたえましょう。

(1) ちゅうしゃじょうに くるまが 4だい とまっています。

2だい くと、ぜんぶで なんだいに なるでしょうか。

したの 【ず】を つかって かんがえ、

しきと こたえを かきましょう。



【ず】 ●●●● ●●

しき

こたえ

(2) きょうしつに おとこのこが 3にん います。

おんなのこが 7にん います。

あわせて なんにん ですか。

したの 【ず】を つかって かんがえ、

しきと こたえを かきましょう。



【ず】 ●●● ●●●●●●●

しき

こたえ