

1 つぎの けいさんを しましょう。


(1) $3 + 8$

(2) $12 - 7$

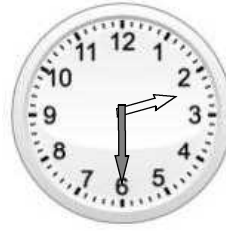
(3) $10 - 6 + 4$

2 とけいを よみましょう。

(1)

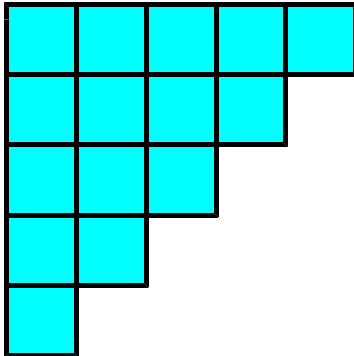


(2)

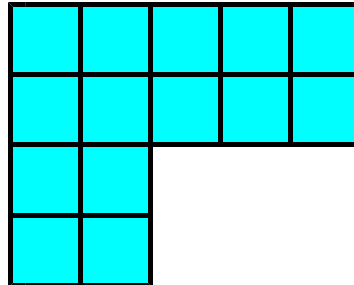


3 おなじいろいたを ㊸から㊹のように ならべました。
ひろい じゅんに かきましょう。



㊸



㊹



㊺



ひろい

せまい

※つぎのページにも、もんだいがあります。

4

みかんが 13こ ありました。ゆうまさんに 3こ あげました。
ゆみさんに 4こ あげました。みかんは なんこ のこりましたか。
したの 【ず】 を つかって かんがえ、しきと こたえを かきま
しょう。

【ず】 ●●●●●●●●●●●●●●●●

しき

こたえ

5

えを 見て、つぎの もんだいに こたえましょう。



(1) $5 + 2$ の しきに なる もんだいを つくりましょう。

(2) $6 - 3$ の しきに なる もんだいを つくりましょう。