

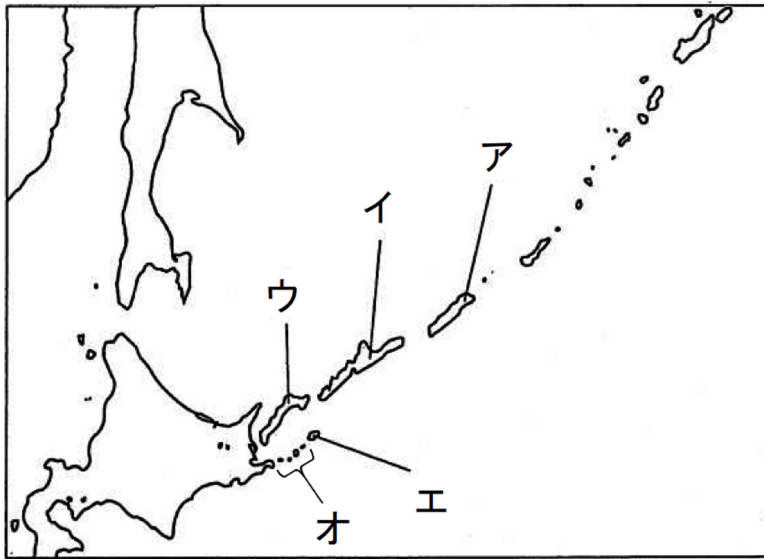
★先生方へ～解答欄の 1 ～ 10 は、問題結果登録の設問番号に対応しています。

1

次の文の下線部 の位置を、略地図の **ア** から **オ** までの中から1つ選び、記号で答えなさい。

わが国の政府がロシア連邦政府に対して返還を求めている、わが国固有の領土である北方領土は、はほまいぐんとう 齒舞群島、しこたん 色丹島、くなしり 国後島、えとろふ 択捉島からなっている。

【略地図】



1

※次のページにも問題があります。

2

次の文章を読み、問いに答えなさい。

日本国憲法では、平等権、a自由権、b社会権、参政権などの基本的人権が保障されている。また、国民の義務として、子どもに普通教育を受けさせる義務、の義務、納税の義務の3つを定めている。

基本的人権の保障には、国民自らが進んで社会生活を支え、秩序を守っていくという義務が伴うのである。

(1) 文中の下線部 a について述べた文として正しいものを、次のアからエまでの中から1つ選び、記号で答えなさい。

- ア 精神の自由には、思想・良心の自由、検閲の自由、信教の自由などがある。
- イ 身体の自由には、法定手続きの保障、奴隷的拘束・苦役からの自由、拘留の保障などがある。
- ウ 経済活動の自由には、財産権の保障、居住・移転の自由、職業選択の自由などがある。
- エ 団結の自由には、交渉の保障、団体行動の自由、組合を結成する自由などがある。

2

(2) 文中の下線部 b について、日本国憲法で保障されている内容を述べた文として最も適切なものを、次のアからエまでの中から1つ選び、記号で答えなさい。

- ア すべての国民は、自分の生き方や生活のスタイルなどを、自分自身で自由に決めたり選んだりできる権利が保障されている。
- イ すべての国民は、その能力に応じて、等しく教育を受ける権利が保障されている。
- ウ 満20歳以上のすべての国民は、国会議員や地方議会の議員の選挙で投票する権利が保障されている。
- エ すべての国民は、個人の私生活に関することがらを公開されない権利が保障されている。

3

(3) 文中のに当てはまる語句を漢字で答えなさい。

4

※次のページにも問題があります。

3

次の文を読み、問いに答えなさい。

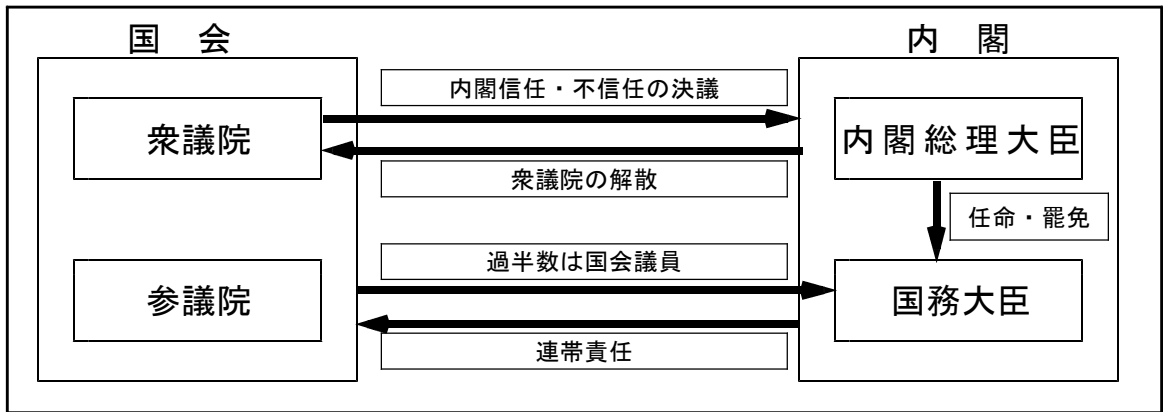
日本の国の政治は、立法権を持つ a国会、行政権を持つ b内閣、司法権を持つ c裁判所の三つの機関を中心に行い、国の権力を三つに分け、それぞれ独立した機関に担当させる三権分立を採っています。

(1) 文中の下線部 **a** について、衆議院と参議院の両院の議決が異なった場合に意見の調整を行う会の名称を答えなさい。

5

(2) 文中の下線部 **a** と **b** について、次の図のように、内閣が国会の信任に基づいて成立し、国会に対して連帯して責任を負う制度を何といいますか。また、下の選択肢の **ア** から **エ** までの中で、内閣の仕事でないものを1つ選び、記号で答えなさい。

〔図〕



〔選択肢〕

- ア 外国と結んだ条約の承認
- イ 最高裁判所の長官の指名
- ウ 天皇の国事行為への助言と承認
- エ 予算案や法律案の作成

6

制度：

記号：

※完全解答

(3) 文中の下線部 **c** について、日本では三審制を採用しています。その理由を書きなさい。

7

次のページにも問題があります。

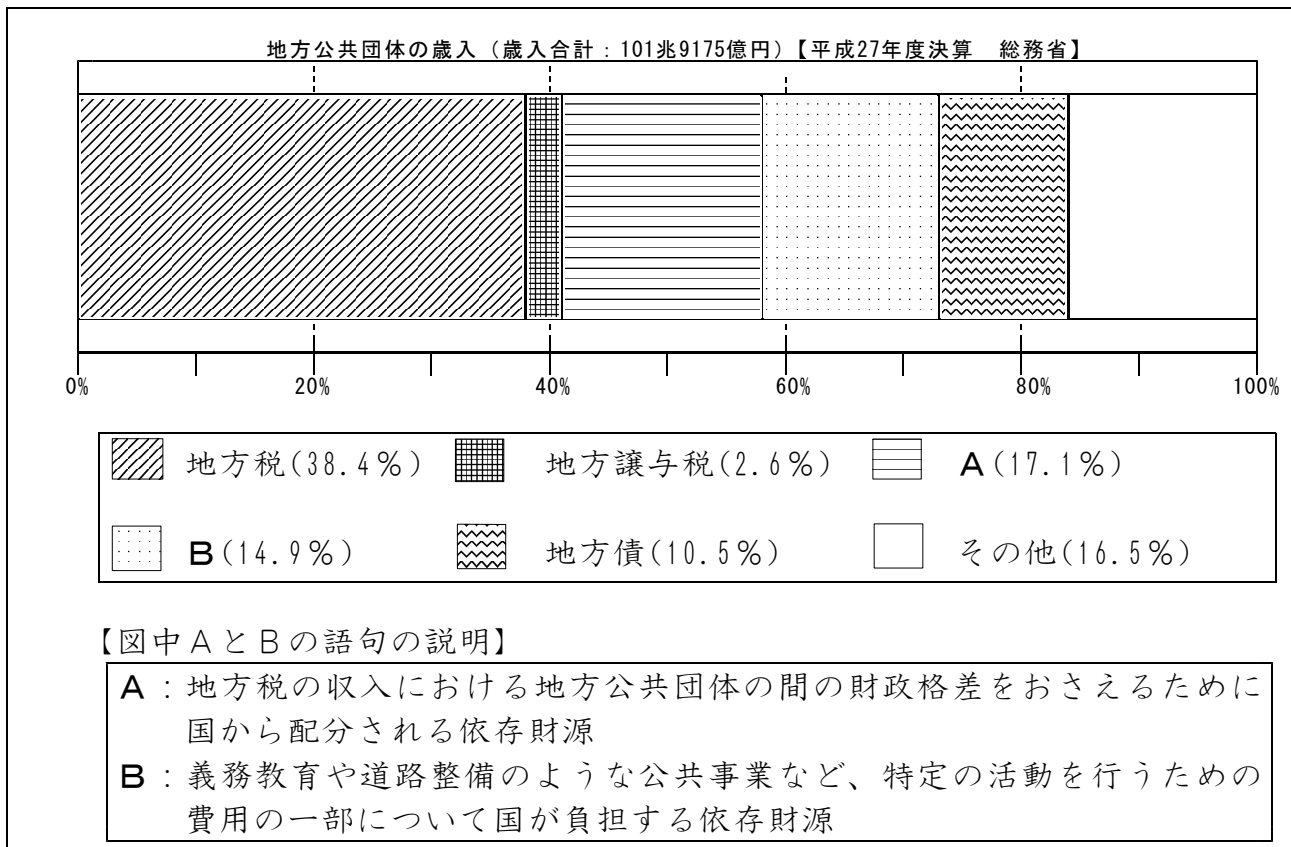
4 次の文を読み、問いに答えなさい。

1999（平成11）年に成立した、国と地方を「対等・協力」の関係に変え、地方公共団体（地方自治体）の権限を強める法律により、地方が自主的に進められる仕事や財源を国から地方に移すなどのしくみが整えられました。

(1) 上の文に示した、国の権限を地方に移す動きのことを漢字4字で答えなさい。

8

(2) 文中の下線部さいにゆうに関わって、次の帯グラフは、全国にある全ての地方公共団体の平成27年度の歳入の内訳をまとめたものです。図中のA・Bに当てはまる語句をそれぞれ答えなさい。



9 A :

10 B :