

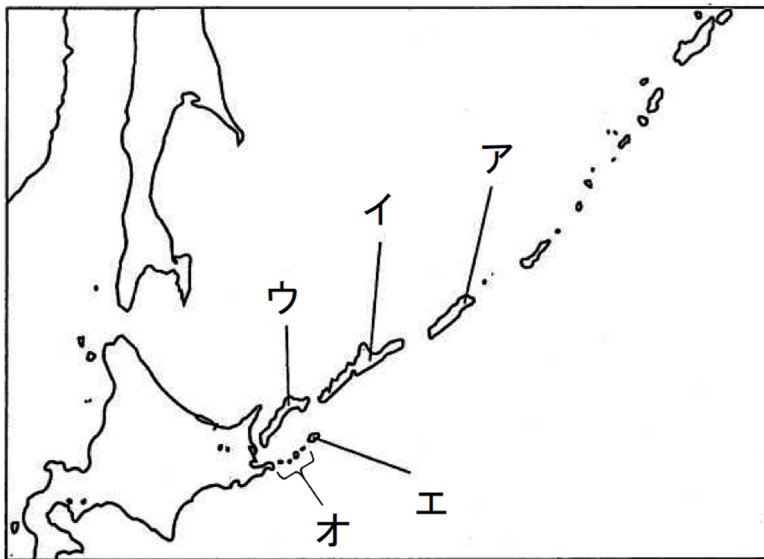
★先生方へ～解答欄の 1 ～10 は、問題結果登録の設問番号に対応しています。

1

次の文の下線部 の位置を、略地図の **ア** から **オ** までの中から1つ選び、記号で答えなさい。

わが国の政府がロシア連邦政府に対して返還を求めている、わが国固有の領土である北方領土は、はほまいぐんとう 齒舞群島、しこたん 色丹島、くなしり 国後島、えとろふ 択捉島 からなっている。

【略地図】



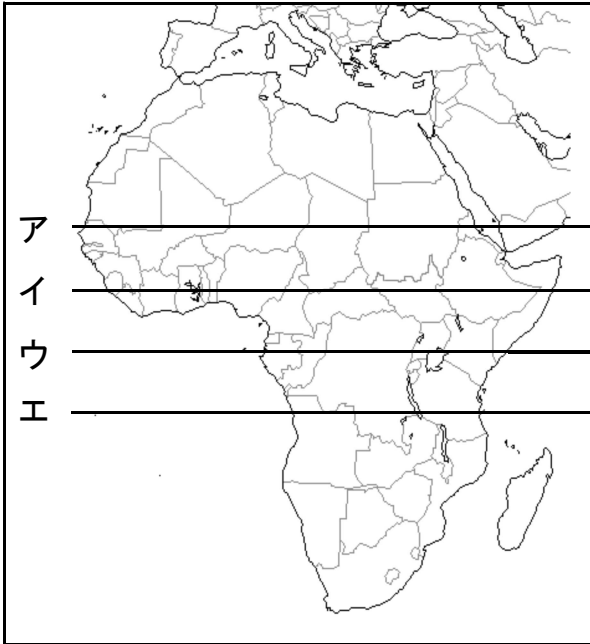
1

※次のページにも、問題があります。

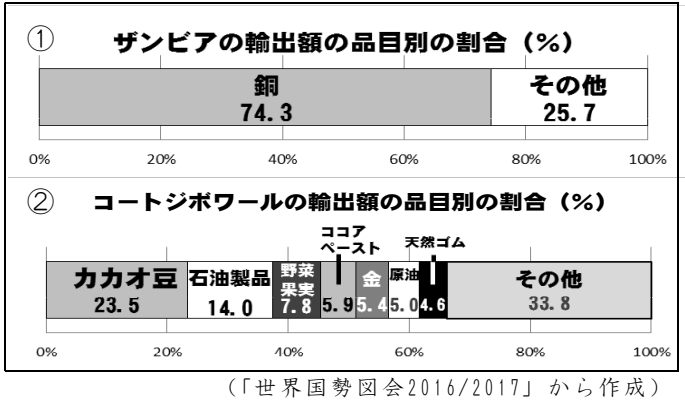
2

次の略地図と資料A・Bを見て、問いに答えなさい。

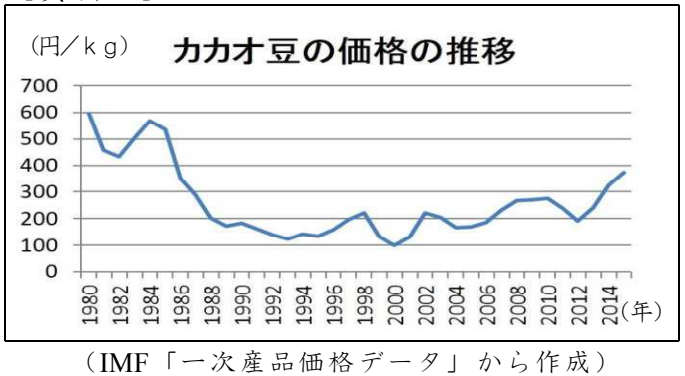
【略地図】



【資料A】



【資料B】



(1) 略地図中における赤道の位置を、アからエまでの中から1つ選び、記号で答えなさい。

2

(2) 植民地時代にヨーロッパ諸国によってつくられ、資料Aの②のグラフ中にあるカカオ豆や天然ゴムなどを栽培する大規模農園の名称を答えなさい。

3

(3) 資料Aの①、②のような状態は、国の経済が不安定になりやすいといわれています。その理由について、次の《条件》に合わせて説明しなさい。

《条件》 ○【資料B】から分かることを【資料A】①、②と関連付けて説明すること。
○「価格」「変動」「輸出品」の3つの言葉を全て使って説明すること。

4

※次のページにも、問題があります。

3

律令国家の学習についてまとめた次のカードを読み、問いに答えなさい。

＜「律令国家への歩み」のまとめの一部＞

蘇我氏が権力をふるう中で、A 中大兄皇子や中臣鎌足による改革などをおして、天皇の権威が高められた。701年には、唐の律令にならって大宝律令がつくられ、新しい国家のしくみが定まった。

＜「律令国家での暮らし」のまとめの一部＞

成年の男子を中心に、B 租・調・庸のほか、C 九州の北部に配置された防人のような、兵役などの重い負担がかけられ、農民のなかには逃亡する者も出てきた。

(1) 下線Aの改革の名称を書きなさい。

5

(2) 下線Bの内容を示した組合せとして正しいものを、次のアからエまでの中から1つ選び、記号で答えなさい。

- | | | |
|---|------------------------------|----------|
| ア | 租… ^{ろうえき} 労役 | 調…地方での労役 |
| イ | 租… ^{しゅうかく} 収穫の約3%の稲 | 調…特産物 |
| ウ | 租…収穫の約3%の稲 | 調…地方での労役 |
| エ | 租…労役 | 調…特産物 |

6

(3) 下線Cについて、どこからの攻撃に備えたものか、次のアからエまでの中から1つ選び、記号で答えなさい。

- ア 唐や百濟
- イ 百濟や高句麗
- ウ 高句麗や新羅
- エ 唐や新羅

※百濟には「ペクチェ」、新羅には「シンラ」「シルラ」、高句麗には「コグリョ」などの読み方もあります。

7

次のページにも、問題があります。

4

次の文を読んで、問いに答えなさい。

奈良時代の後半には、貴族や僧の間で勢力争いが起こり、政治が混乱しました。そこで、①は、まず都を長岡京へ移し、さらに794年に②に移しました。①は、東北地方の蝦夷を朝廷に従わせるため、坂上田村麻呂を征夷大將軍に任命し、勢力を広げました。

また、9世紀初めには、遣唐使とともに唐にわたった二人の僧侶が新しい仏教をもたらしました。

(1) ①と②に入る人名と言葉の組合せとして正しいものを、次のアからエまでのの中から1つ選び、記号で答えなさい。

- ア ①聖武天皇－②平安京
- イ ①桓武天皇－②平城京
- ウ ①聖武天皇－②平城京
- エ ①桓武天皇－②平安京

8

(2) ②があったのは、現在のどの都道府県か、答えなさい。

9

(3) 下線部 の説明として正しいものを、次のアからエまでのの中から1つ選び、記号で答えなさい。

- ア 天台宗を伝えた最澄は、比叡山に延暦寺を建てた。
- イ 真言宗を伝えた最澄は、高野山に金剛峯寺を建てた。
- ウ 天台宗を伝えた空海は、高野山に金剛峯寺を建てた。
- エ 真言宗を伝えた空海は、比叡山に延暦寺を建てた。

10