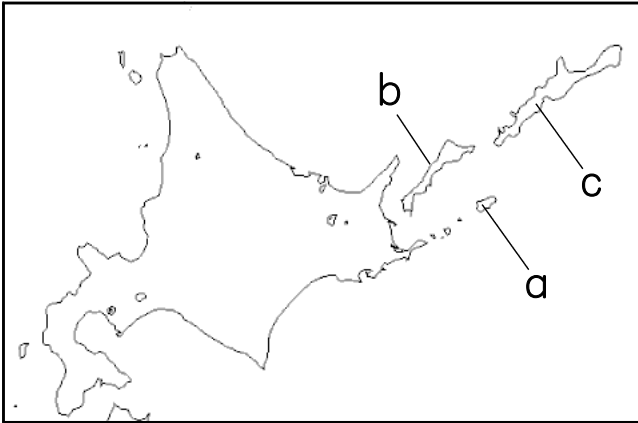


★先生方へ～解答欄の **1** ～ **10** は、問題結果登録の設問番号に対応しています。

1 次の略地図を見て、北方領土^{りようど}を説明した文章の **a** ～ **c** に当てはまることばを書きましょう。

〔略地図〕



【北方領土^{りようど}についての説明】

わが国固有の領土^{りようど}である北方領土^{りようど}は、歯舞群島^{はほまいぐんどう}、**a** 島、**b** 島、**c** 島からなっています。わが国の政府^{せいふ}は、ロシア連邦政府^{ほう}に対して返還^{へんかん}を求めています。

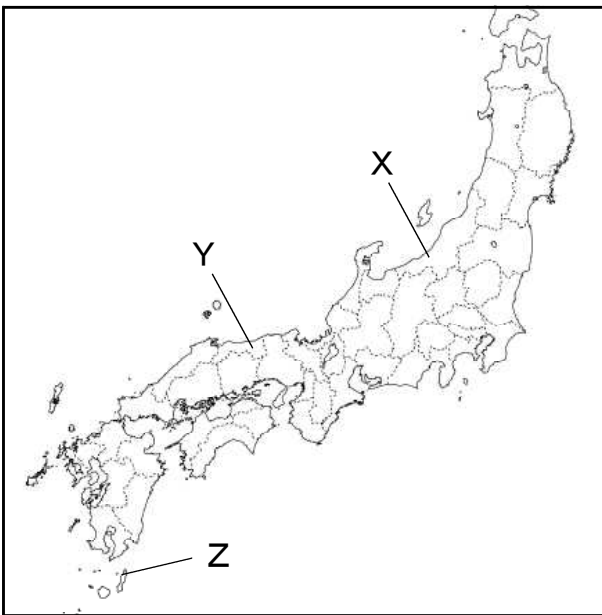
a ¹

b ²

c ³

2 次の略地図を見て、問題に答えましょう。

〔略地図〕



(1) 略地図中の X の県の名前を書きましょう。

X ⁴ 県

(2) 略地図中の Y の県の名前を書きましょう。

Y ⁵ 県

(3) 略地図中の Z の島のある県の名前を書きましょう。

Z ⁶ 県

※次のページにも、問題があります。

3

さくらさんは、戦国の世に全国統一を進めた3人の武将ぶしやうについて、学習したことを表にまとめました。

人 物	お だ のぶなが 織田信長	とよとみひでよし 豊臣秀吉	とくがわいえやす 徳川家康
きよ 拠点とした城 しろ	あづちじやう ①安土城	おおさかじやう 大阪城	えどじやう 江戸城
政治の進め方	<ul style="list-style-type: none"> ・力をもっていた 仏教勢力を武力 でおさえた。 ・商工業をさかん にすることに力 を入れた。 	②	<ul style="list-style-type: none"> ・征夷大將軍に 任命され、江戸 幕府を開いた。 ・豊臣氏をほろぼ して、全国に一 国一城令を出 した。
外国との関係	<ul style="list-style-type: none"> ・キリスト教を保 護した。 	ちやうせん ・朝鮮に2度にわ たって軍を送っ た。	ちやうせん ・朝鮮に使者を 送り、交流を再 開した。

(1) ① ^{しろ}の城が築かれた場所を、次の略地図のAからDまでの中から選
び、記号で書きましよう。

[略地図]



7

※次のページにも、問題があります。

(2) 空欄 ② に当てはまる内容を下のアからオまでの中から2つ選び、記号で書きましょう。

- ア 参勤交代さんきんこうたいの制度を定め、大名の妻や子どもを江戸に住ませた。
- イ 十七條の憲法けんぽうを定め、政治を行う役人の心構えを示した。
- ウ 村ごとに検地を行い、土地のよしあしや耕作している人を調べた。
- エ 全国に国分寺こくぶんじを置き、都に東大寺を建てた。
- オ 刀狩令かたながりれいを出して、百姓ひやくしやうたちから武器を取り上げた。

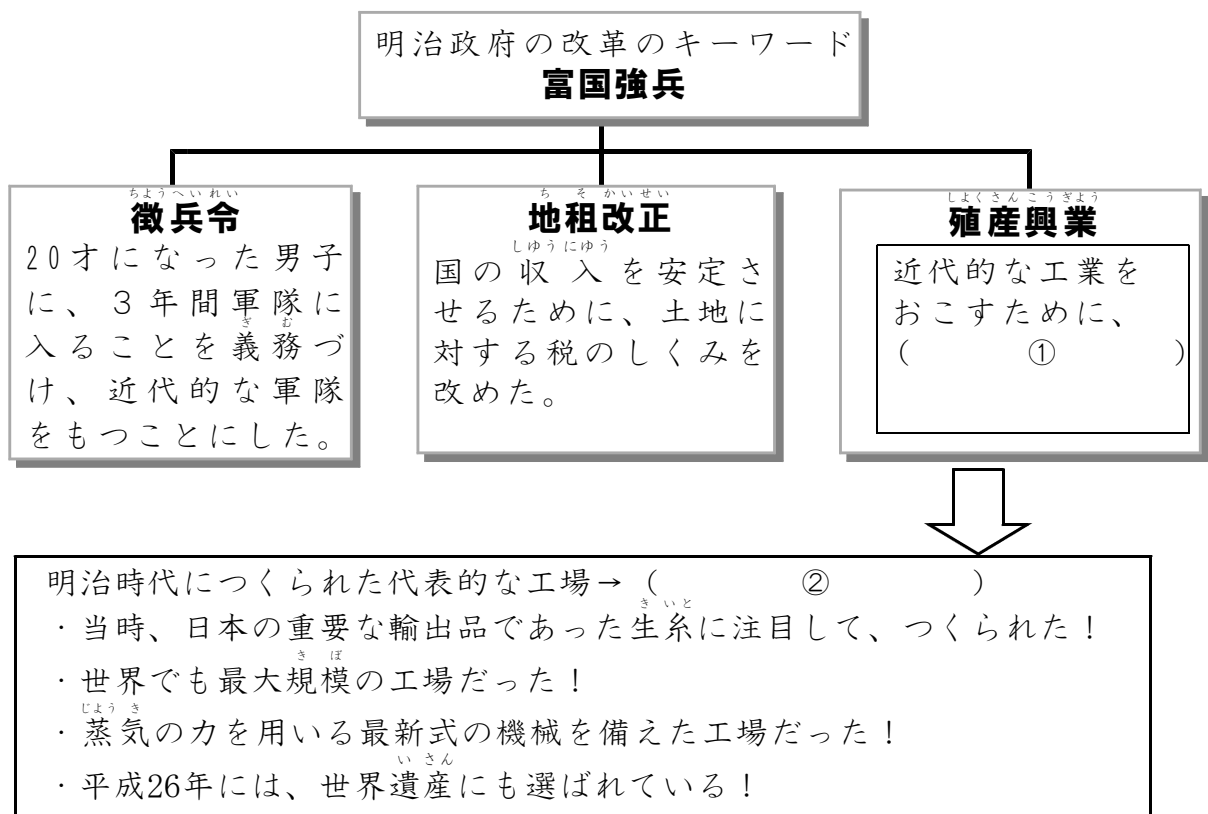
8

と

※完全解答

4 かなさんは、明治政府が行った様々な改革かいかくについて調べ、ノートにまとめました。次の問題に答えましょう。

[かなさんがまとめたノート]



※問題は次のページにあります。

(1) かなさんは、明治政府が行った様々な改革の一つである殖産興業^{しよくさんこうぎよう}についての説明を（ ① ）に書こうと思います。（ ① ）に入る内容を、「近代的な工業をおこすために、」の後に続けて、「 」の中の言葉をすべて使って30字以内で書きましょう。

機械 技術者 官営工場

近代的な工業をおこすために、

9											10 字
											20 字
											30 字

(2) かなさんは、殖産興業^{しよくさんこうぎよう}について調べるうちに、明治時代につくられた代表的な工場に興味をもち、調べてまとめることにしました。かなさんが調べたことを参考にして、（ ② ）に入る工場名を書きましょう。

10