

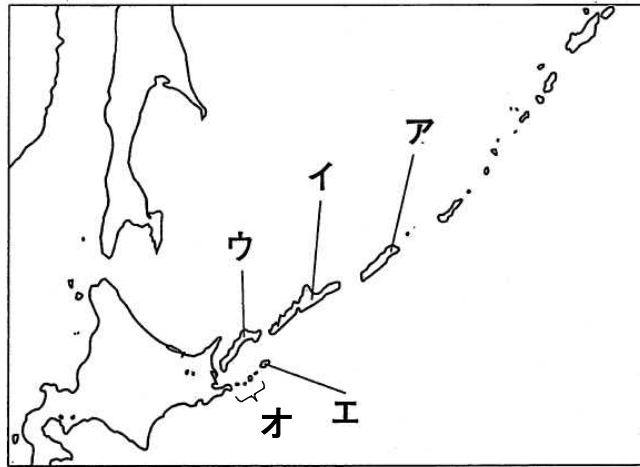
★先生方へ～解答欄の 1 ～ 8 は、問題結果登録の設問番号に対応しています。

1

わが国の政府が、ロシア連邦政府に対して返還を求めている、わが国固有の領土である北方領土は、歯舞群島、色丹島、国後島、択捉島からなっています。

下線部            の位置を、次の略地図の **ア** から **オ** までの中から選びましょう。

〔略地図〕

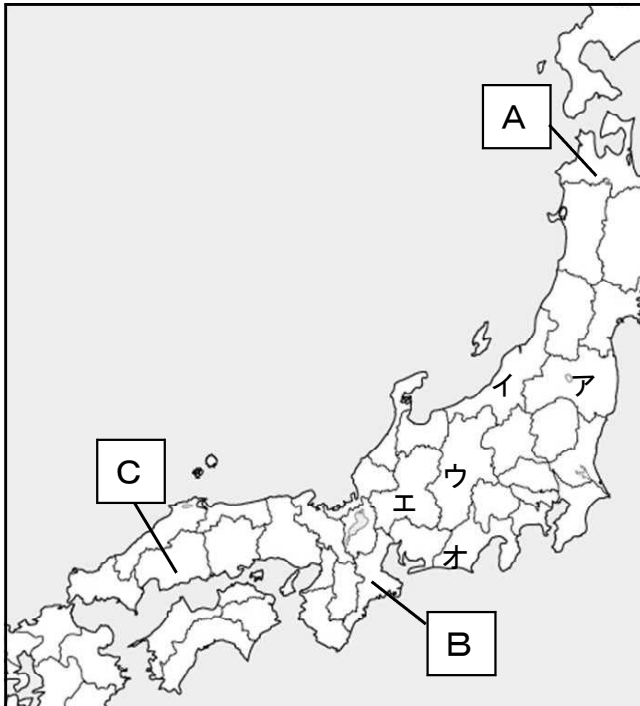


1

2

次の略地図を見て、問題に答えましょう。

〔略地図〕



(1) 略地図中の **A**、**B**、**C** の県の名前を書きましょう。

A  県

B  県

C  県

(2) 次の県の位置を略地図中の **ア** から **オ** までの中から選んで記号で書きましょう。

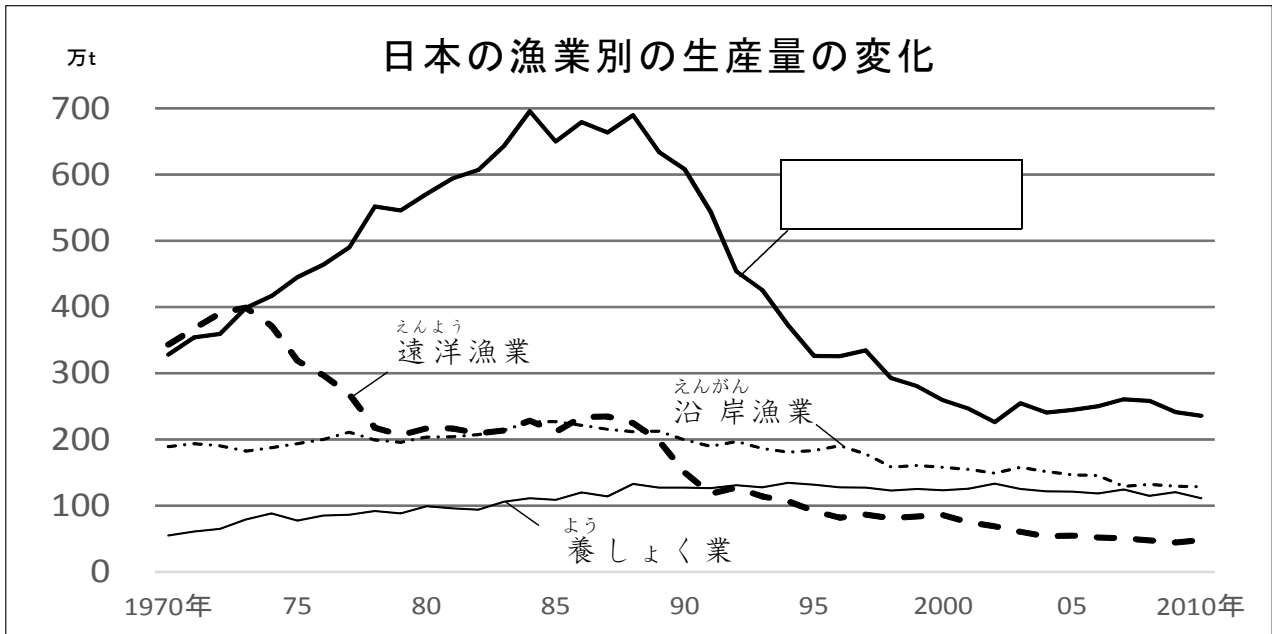
5  長野県

6  静岡県

※次のページにも、問題があります。

3

日本の水産業について、次の資料を見て、問題に答えましょう。



漁業・養殖業生産統計年報（農林水産省2010年）

(1) 上の資料の  に当てはまる言葉を書きましょう。

7

(2) 日本の遠洋漁業の生産量が減ってきている理由を、次の  の言葉をすべて使って、40字以内で説明しましょう。

せいげん 制限                      200海里                      外国

8

										10
										20
										30
										40