

★先生方へ～解答欄の 1 ～ 13 は、問題結果登録の設問番号に対応しています。

1

つぎ もんだい
次の問題に答えましょう。

(1) 数字で書きましょう。

① 三百十四万五千六百八十六

1

② 1000万を5こ、100万を8こ、1万を9こ合わせた数

2

(2) 92000はどんな数ですか。 にあてはまる数を書きましょう。

①

3

と2000を合わせた数

② 1000を

4

こ集めた数

つぎ もんだい
※次のページにも、問題があります。

2

つぎ もんだい
次の問題に答えましょう。

(1) 次の筆算で、にあてはまる数を書きましょう。

$$\begin{array}{r} 58 \\ \times 9 \\ \hline \end{array}$$

$$72 \dots\dots$$

5

$$\times 9$$

$$450 \dots\dots$$

6

$$\times 9$$

$$\hline 522$$

(2) 計算をしましょう。

① $46 \div 7$

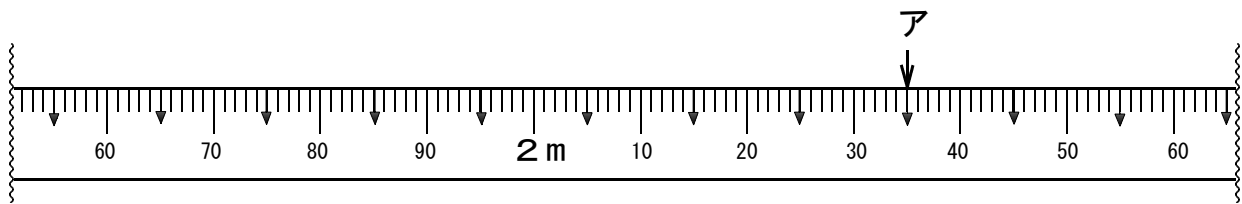
7

② $80 \div 9$

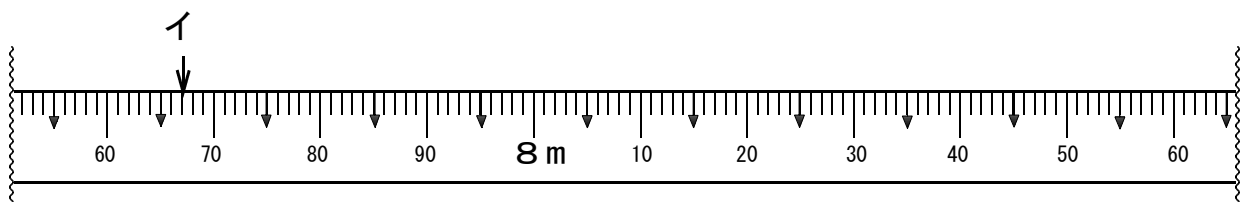
8

つぎ もんだい
※次のページにも、問題があります。

3 アとイのめもりが表す長さを書きましょう。



ア

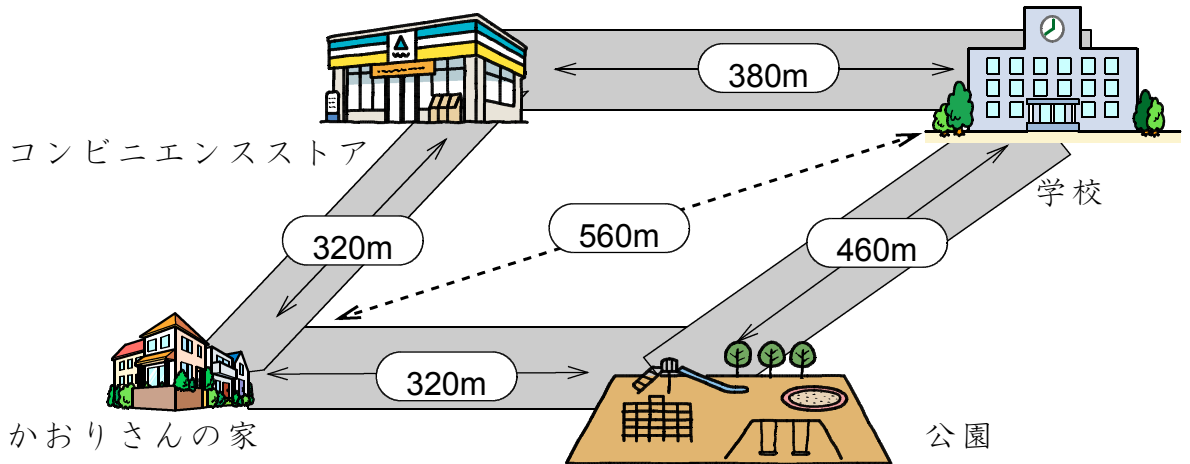


イ

※ 次のページにも、問題があります。

4

下の地図を見て、もんだい問題に答えましょう。



- (1) かおりさんの家から公園を^{みじか}通って学校に行く道のりと、コンビニエンスストアを^{みじか}通って学校に行く道のりでは、どちらが短いでしょうか。どちらが短いかを答え、そのように考えたわけを、言葉や数を使って答えましょう。

11 かおりさんの家から を通って学校に行く道のりのほうが短い。

12 わけ：

- (2) かおりさんの家から学校までは、歩いて25分かかります。午前8時15分に学校に着くためには、かおりさんは何時何分に家を出ればよいですか。その時こくを書きましょう。

13