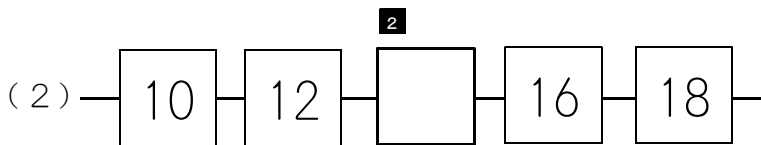
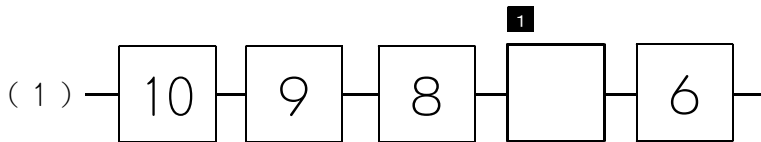


★先生方へ～解答欄の 1 ～ 10 は、問題結果登録の設問番号に対応しています。

1 □ に あてはまる かずを かきましょう。



2 つぎの けいさんを しましょう。

(1) 15 - 5 + 3

(2) 4 + 8

³ □

⁴ □

3 とけいを よみましょう。



⁵ □

※つぎのページにも、もんだいがあります。

4 つぎの もんだいに こたえましょう。

(1) みかんが 6こ あります。
りんごが 9こ あります。
かずの ちがいは いくつですか。
みぎの 【ず】を つかって かんがえ、
しきと こたえを かきましょう。

【ず】

みかん ●●●●●●

りんご ○○○○○○○○○

6 しき

7 こたえ


(2) ちゅうしゃじょうに くるまが 5だい あります。
あとから 7だい きました。
ぜんぶで なんだいに なりましたか。
したの 【ず】を つかって かんがえ、しきと こたえを かきましょう。

【ず】 ●●●●● ●●●●●●●●

8 しき

9 こたえ

5 えを みて、 $5+3$ の しきに なる もんだいを つくりましょう。



10