

★先生方へ～解答欄の 1 ～ 15 は、問題結果登録の設問番号に対応しています。

1 つぎのひっ算をしましょう。

(1) 1

$$\begin{array}{r} 28 \\ + 45 \\ \hline 73 \end{array}$$

① 一のくらいのけいさん
 $8 + 5 = ① 3$

② 十のくらいのけいさん
 $① + 2 + 4 = 7$

(2) 2

$$\begin{array}{r} 73 \\ + 17 \\ \hline 90 \end{array}$$

(3) 3

$$\begin{array}{r} 85 \\ - 5 \\ \hline 80 \end{array}$$

(4) 4

$$\begin{array}{r} 62 \\ - 19 \\ \hline 43 \end{array}$$

① 一のくらいのけいさん
 2から9はひけないので
 十のくらいから1くり下げる。
 $12 - 9 = 3$

② 十のくらいのけいさん
 $5 - 1 = 4$

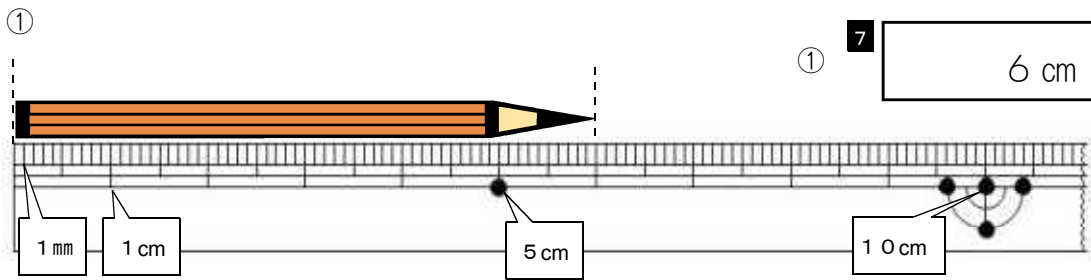
2 つぎのもんだいに答えましょう。

(1) にあてはまる長さのたのいを書きましょう。

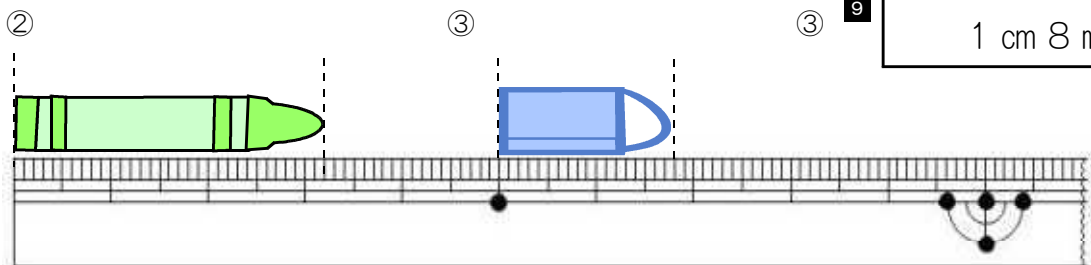
① はさみの長さ 15 cm

② ノートのあつき 5 mm

(2) ①から③のものの長さは、どれだけでしょ。



① 7 6 cm



② 8 3 cm 2 mm

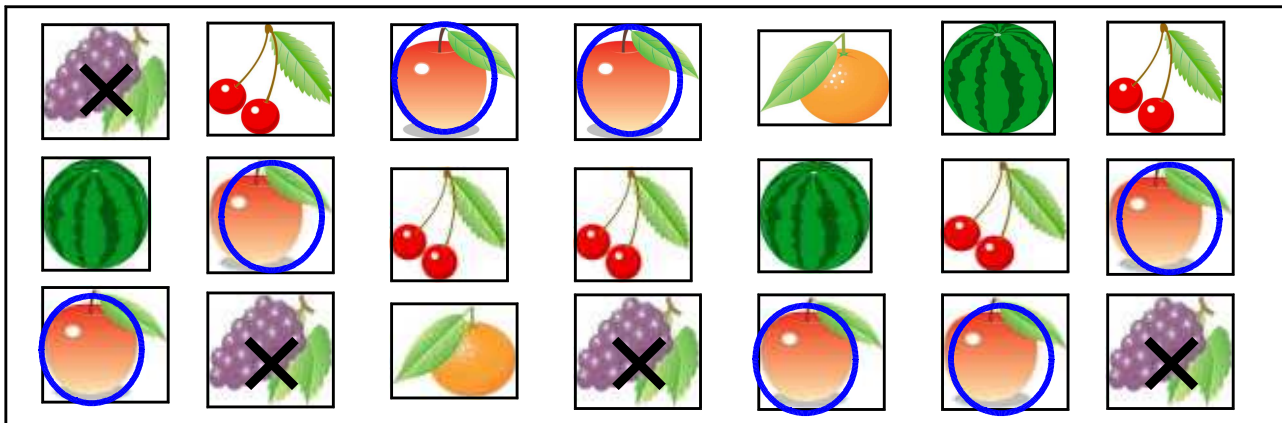
③ 9 1 cm 8 mm

※つぎのページにも、もんだいがあります。

3

下のよう^えな絵^{かず}があります。つぎ^えのも

おなじくだものを○でかこんだり、×などでしるしをつけたりして、数をかぞえると、かぞえまちがいが少なくなります。



(1) くだもの絵^えの数をしらべて、ひょうにかきましょう。

(くだもの絵^え)

くだもの	りんご	さくらんぼ	ぶどう	すいか	みかん
絵 ^え の数 ^{かず} (まい)	10 7	5	11 4	12 3	2

(2) くだもの絵^えの数を、○をつかってグラフにあらわしましょう。

(くだもの絵^え)

○				
○				
○	○			
○	○	○		
○	○	○	○	
○	○	○	○	○
○	○	○	○	○
りんご	さくらんぼ	ぶどう	すいか	みかん

13

14

(3) りんごの絵^えとぶどうの絵^えでは、どちらが何まい^{なん}少ない^{すく}ですか。

こたえ

15

ぶどうの絵^えが 3 まい^{すく}少ない。

15 問中